



UNIVERSIDADES DE ANDALUCÍA
PRUEBA DE ACCESO Y ADMISIÓN A LA
UNIVERSIDAD
 CURSO 2016-2017

GEOGRAFÍA

- Instrucciones:**
- a) Duración: 1 hora y 30 minutos.
 - b) La presente prueba consta de dos opciones (A y B), de las cuales deberá desarrollar solamente una.
 - c) En todos los casos se considerarán elementos de ponderación de la nota final la claridad de la redacción y la corrección gramatical y ortográfica. La calificación máxima va expresada bajo cada pregunta.

OPCIÓN A

1.-Expresar de modo conciso el significado de los términos que se identifican con las letras a, b, c, d, y diga a qué concepto hacen referencia las expresiones correspondientes a las letras e, f.

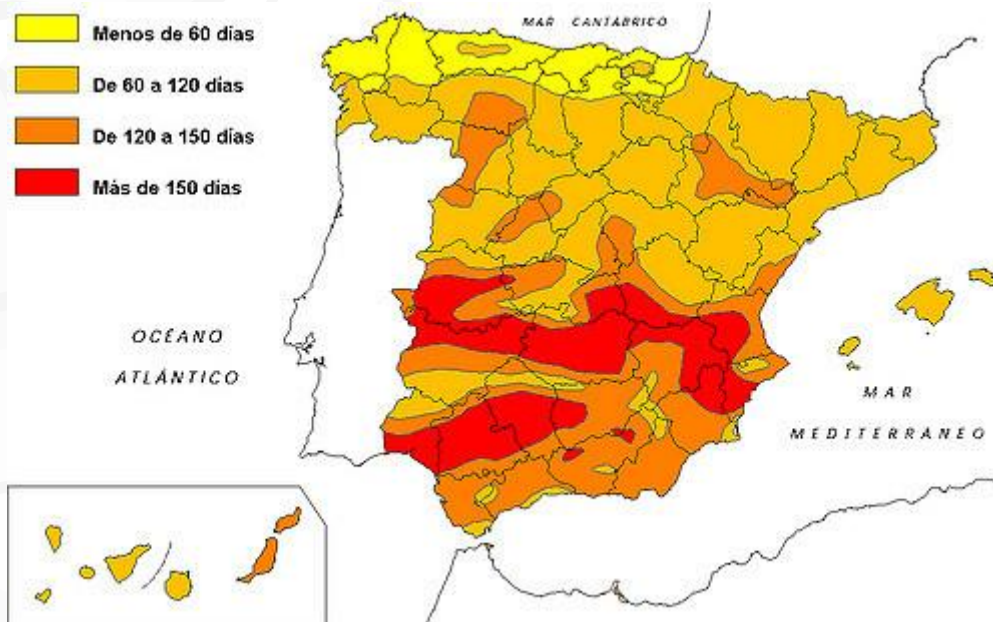
- a) Caudal de un río
- b) Industria metalúrgica
- c) Meandro
- d) Cultivos forrajeros
- e) Cómo se conoce el lecho de un curso de agua, generalmente seco, en un área árida, que ocasionalmente conduce un torrente de corta duración, después de una lluvia intensa?
- f) ¿Qué nombre reciben los bienes y servicios que forman parte de las transacciones de un país hacia el exterior?

Valoración: hasta 3 puntos; máximo 0,5 puntos por respuesta correcta.

2. El mapa muestra la insolación peninsular e insular en España. Obsérvelo y responda a las siguientes cuestiones:

- a) ¿Qué provincias tienen en alguna parte o en todo su territorio menos de 60 días anuales de sol?. (Hasta 1 punto)
- b) Ponga en relación brevemente cada una de estas cuatro categorías de insolación con otros elementos y factores de los climas peninsulares e insulares y con otros elementos naturales. ¿Por qué es tan variada la insolación de Andalucía?. (hasta 1,5)
- c) Qué repercusiones tienen estas categorías de insolación en algunas actividades económicas. En cuáles principalmente y cómo afectan.(hasta 1,5 puntos)

(Valoración: hasta 4 puntos)



3. Tema: Evolución y distribución geográfica de la población española. Los efectivos demográficos y su evolución. Características y factores de la densidad y la distribución espacial.

(Valoración: hasta 3 puntos)

- Instrucciones:
- a) Duración: 1 hora y 30 minutos.
 - b) La presente prueba consta de dos opciones (A y B), de las cuales deberá desarrollar solamente una.
 - c) En todos los casos se considerarán elementos de ponderación de la nota final la claridad de la redacción y la corrección gramatical y ortográfica. La calificación máxima va expresada bajo cada pregunta.

OPCIÓN B

1.-Expresar de modo conciso el significado de los términos que se identifican con las letras a, b, c, d, y diga a qué concepto hacen referencia las expresiones correspondientes a las letras e, f.

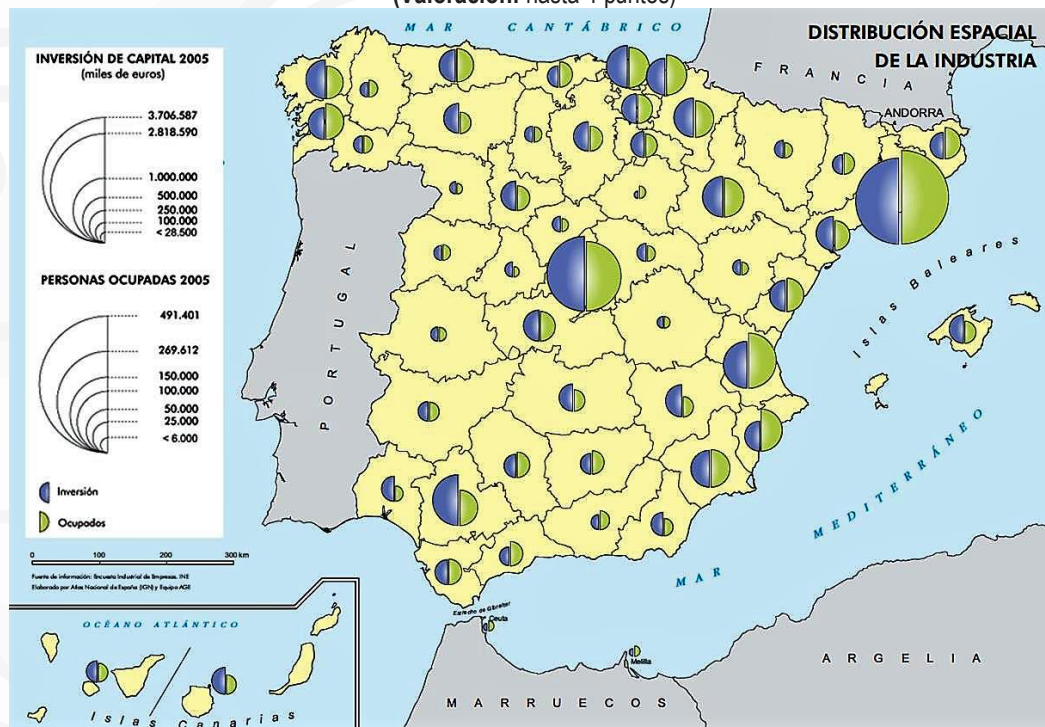
- a) Insolación
- b) Pesca de bajura
- c) Endemismo
- c) Sistema de ciudades
- e) ¿Con qué nombre se denomina el comportamiento estacional de las temperaturas en un determinado clima y lugar?
- f) ¿Qué nombre recibe el recuento universal de toda la población de un país residente en cada uno de sus municipios con sus características personales y estructurales, que se suele hacer cada 10 años?

Valoración: hasta 3 puntos; máximo 0,5 puntos por respuesta correcta.

2. En el mapa siguiente se representa la distribución espacial de la industria de España. Analícelo y responda a las siguientes cuestiones:

- a) Localice en el mapa y señale las cinco provincias con mayor población ocupada en industria. (Hasta 1 punto).
- b) Describa brevemente, a partir de la información contenida en el mapa, la situación de la industria en Andalucía. (Hasta 1 punto).
- c) Analice las causas y consecuencias de la desigual distribución espacial de la industria en España. (Hasta 2 puntos).

(Valoración: hasta 4 puntos)



3. Tema: Los dominios climáticos en España. Los principales tipos de clima y sus características. La distribución geográfica de los climas de España.

(Valoración: hasta 3 puntos)



UNIVERSIDADES DE ANDALUCÍA
PRUEBA DE ACCESO Y ADMISIÓN A LA
UNIVERSIDAD
 CURSO 2016-2017

GEOGRAFÍA

- Instrucciones:**
- Duración: 1 hora y 30 minutos.
 - La presente prueba consta de dos opciones (A y B), de las cuales deberá desarrollar solamente una.
 - En todos los casos se considerarán elementos de ponderación de la nota final la claridad de la redacción y la corrección gramatical y ortográfica. La calificación máxima va expresada bajo cada pregunta.

OPCIÓN A

1.-Expresar de modo conciso el significado de los términos que se identifican con las letras a, b, c, d, y diga a qué concepto hacen referencia las expresiones correspondientes a las letras e, f.

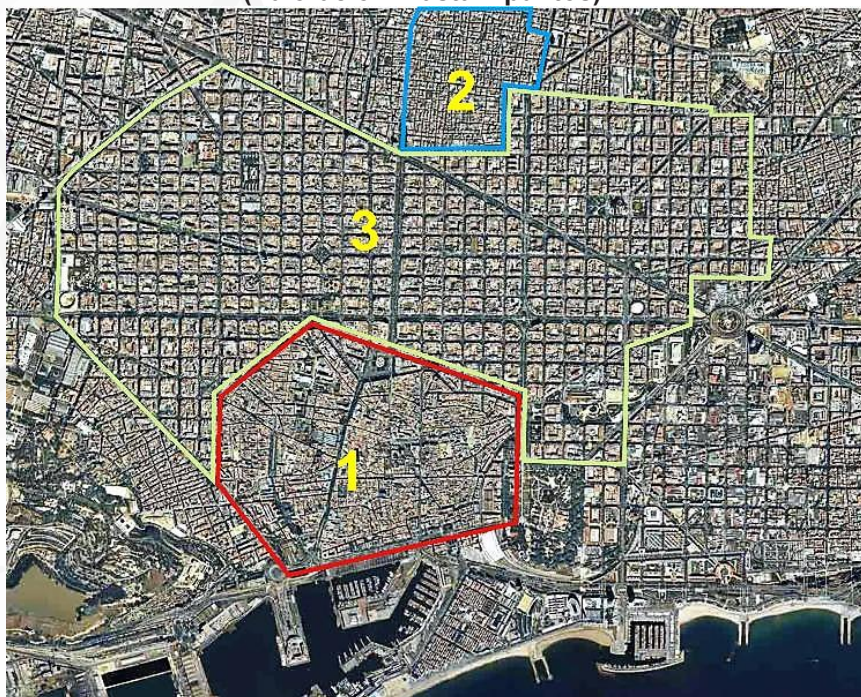
- | | |
|--|-----------------------|
| a) Cuenca sedimentaria | b) Área metropolitana |
| c) Glaciarismo | d) Importaciones |
| e) ¿Qué nombre recibe la medición del caudal de agua que pasa por un conducto (canal, río, torrente, etc)? | |
| f) La relación de los habitantes de un término municipal con expresión de algunas de sus características, ¿cómo se conoce? | |

Valoración: hasta 3 puntos; máximo 0,5 puntos por respuesta correcta.

2. La figura siguiente es un fotoplano de la ciudad de Barcelona. Con la información que contiene conteste a las cuestiones siguientes:

- Identifique los tipos de plano urbano correspondientes a las tres unidades señaladas numéricamente. (Hasta 1 punto).
- Defina y caracterice el tipo de plano urbano de las unidades numeradas como 1 y 3. (Hasta 1 punto).
- Explique los factores del emplazamiento de la ciudad de Barcelona y su papel en el sistema de ciudades español. (Hasta 2 puntos).

(Valoración: hasta 4 puntos)



3 Tema.- Las grandes unidades del relieve. La Meseta y sus unidades interiores. Los rebordes montañosos de la Meseta. Los sistemas y unidades exteriores. Los relieves insulares.

(Valoración: hasta 3 puntos)

- Instrucciones:
- Duración: 1 hora y 30 minutos.
 - La presente prueba consta de dos opciones (A y B), de las cuales deberá desarrollar solamente una.
 - En todos los casos se considerarán elementos de ponderación de la nota final la claridad de la redacción y la corrección gramatical y ortográfica. La calificación máxima va expresada bajo cada pregunta.

OPCIÓN B

1.-Expresar de modo conciso el significado de los términos que se identifican con las letras a, b, c, d, y diga a qué concepto hacen referencia las expresiones correspondientes a las letras e, f.

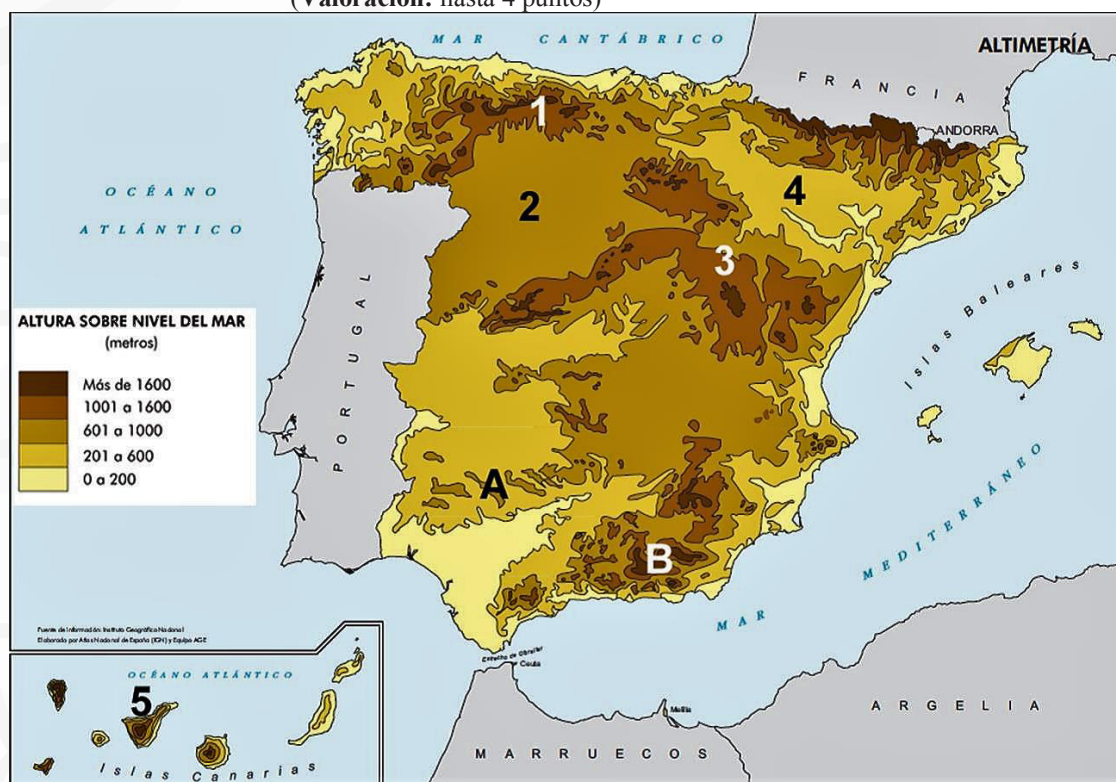
- Continentalidad
- Caladero
- Flora de un territorio
- Industria siderúrgica
- ¿Por qué nombre se conoce un campo de baja presión atmosférica, inferior a los 1014 mb.?
- ¿Qué nombre recibe el contrato mixto por el cual el propietario de la tierra la cede en usufructo a un agricultor para su aprovechamiento?

Valoración: hasta 3 puntos; máximo 0,5 puntos por respuesta correcta.

2. A continuación se presenta un mapa de altitudes sobre el nivel del mar de España. A partir del mismo responda a las siguientes cuestiones:

- Diga el nombre de las unidades de relieve señaladas numéricamente del 1 al 5. (Hasta 1 punto).
- Identifique y describa las características de los relieves señalados con las letras A y B. (Hasta 1 punto).
- Explique el origen de la formación de las principales zonas altitudinales que se observan en el mapa. (Hasta 2 puntos).

(Valoración: hasta 4 puntos)



3 Tema.- La industria en España. El proceso de industrialización y sus hitos más recientes. Factores de la actividad industrial. Principales sectores industriales en la actualidad. Distribución geográfica de la industria en España.

(Valoración: hasta 3 puntos)



UNIVERSIDADES DE ANDALUCÍA
PRUEBA DE ACCESO Y ADMISIÓN A LA
UNIVERSIDAD
 CURSO 2016-2017

GEOGRAFÍA

- Instrucciones:**
- a) Duración: 1 hora y 30 minutos.
 - b) La presente prueba consta de dos opciones (A y B), de las cuales deberá desarrollar solamente una.
 - c) En todos los casos se considerarán elementos de ponderación de la nota final la claridad de la redacción y la corrección gramatical y ortográfica. La calificación máxima va expresada bajo cada pregunta.

OPCIÓN A

1.-Expresar de modo conciso el significado de los términos que se identifican con las letras a, b, c, d, y diga a qué concepto hacen referencia las expresiones correspondientes a las letras e, f.

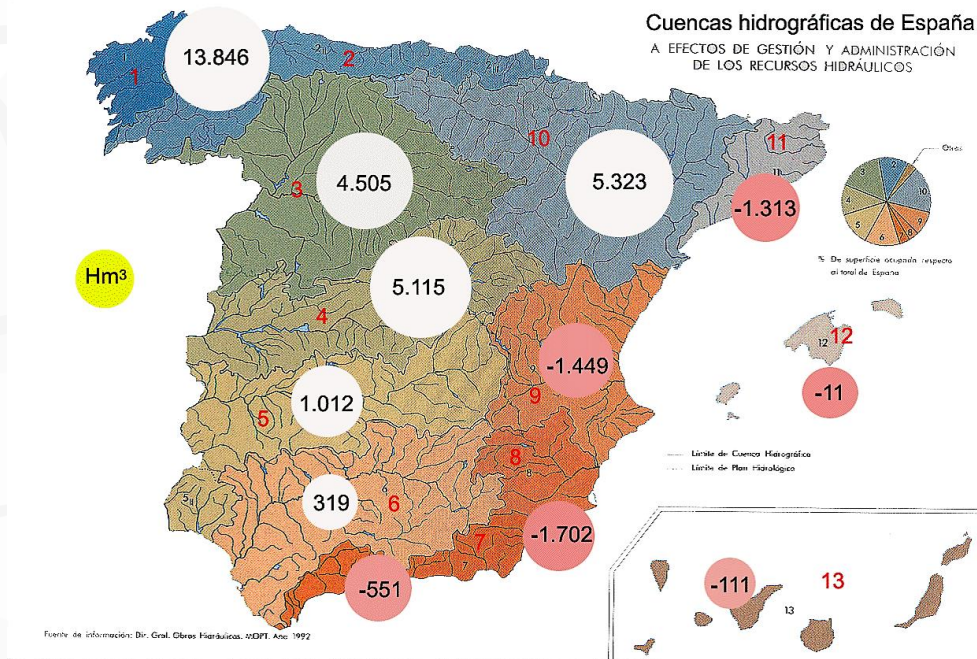
- a) Zócalo
- b) Dehesa
- c) Evaporación
- d) Sector terciario
- e) ¿Cómo se conoce al momento en que, en el movimiento de traslación, el sol es perpendicular al Ecuador terrestre y por tanto tiende a haber igualdad de luz y de duración en el día y la noche?
- f) ¿Con que otro nombre se conoce en España las zonas de expansión de una ciudad tras la revolución industrial, mediante urbanización planificada y plano ortogonal?

Valoración: hasta 3 puntos; máximo 0,5 puntos por respuesta correcta.

2. El mapa representa el balance hídrico de las principales cuencas hidrográficas de la Península Ibérica, Baleares y Canarias. Analízelo y responda a las preguntas siguientes:

- a) Expresar del 1 al 11 los nombres de los principales ríos que alimentan cada una de esas cuencas (Hasta 1 punto).
- b) ¿Qué Comunidades Autónomas tienen un balance hídrico negativo? (Hasta 1 punto).
- c) Explique las razones de los contrastes de los valores del balance hídrico de las cuencas de la vertiente atlántica peninsular con relación a la vertiente mediterránea. (Hasta 2 puntos).

(Valoración: hasta 4 puntos).



3. Tema: Los dominios y paisajes agrarios. Los condicionantes del paisaje agrario. Dominios y paisajes de la España atlántica. Dominios y paisajes de la España mediterránea (interior y litoral). Otros paisajes agrarios.

(Valoración: hasta 3 puntos)

- Instrucciones:**
- a) Duración: 1 hora y 30 minutos.
 - b) La presente prueba consta de dos opciones (A y B), de las cuales deberá desarrollar solamente una.
 - c) En todos los casos se considerarán elementos de ponderación de la nota final la claridad de la redacción y la corrección gramatical y ortográfica. La calificación máxima va expresada bajo cada pregunta.

OPCIÓN B

1.-Expresar de modo conciso el significado de los términos que se identifican con las letras a, b, c, d, y diga a qué concepto hacen referencia las expresiones correspondientes a las letras e, f.

- a) Paralelo
- b) Crecimiento natural de la población
- c) Régimen fluvial
- c) Balanza comercial
- e) Cuando la sociedad satisface las necesidades de las generaciones presentes sin comprometer las posibilidades de las generaciones del futuro para atender sus propias necesidades, se dice que cumple con los objetivos.....
- f) Cuando los visitantes se concentran en la cultura de los lugares a donde van se dice que están realizando.....

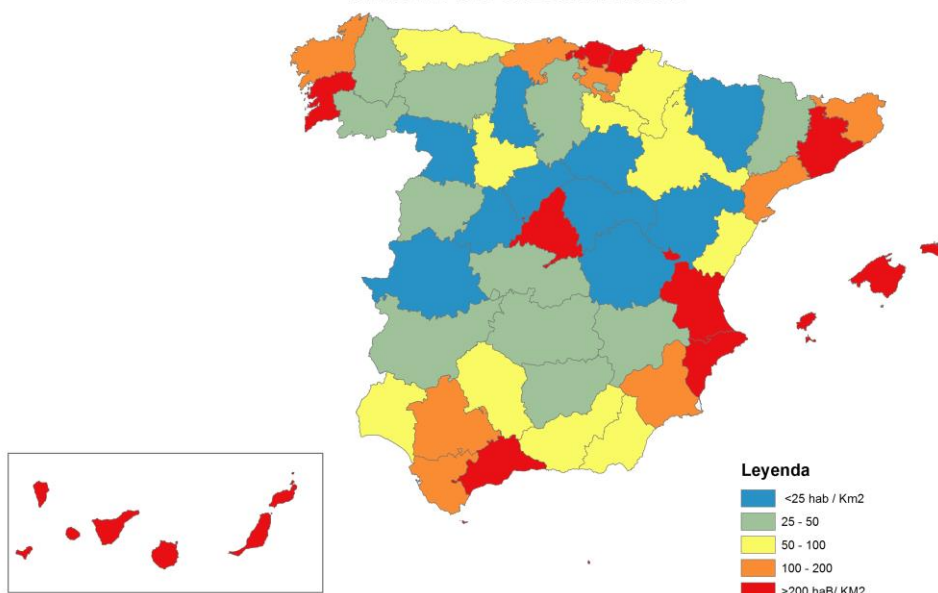
Valoración: hasta 3 puntos; máximo 0,5 puntos por respuesta correcta

2. En el mapa siguiente se representa la densidad de población de España en 2015 por provincias. Analicelo y responda a las siguientes cuestiones:

- a) ¿Qué provincias tienen una densidad mayor de 200 habitantes/km²? (Hasta 1 punto).
- b) ¿Qué diferencia hay entre las densidades de las provincias del interior y las de la periferia? (Hasta 1 punto).
- c) Explique las causas de esta disimetría y las excepciones. (Hasta 2 puntos).

(Valoración: hasta 4 puntos)

DENSIDAD DE POBLACIÓN EN 2015



3. Tema: Las aguas y la red hidrográfica. Las vertientes hidrográficas españolas. Los ríos y las cuencas hidrográficas. Los regímenes fluviales. Uso y aprovechamiento de las aguas.

(Valoración: hasta 3 puntos)

- Instrucciones:
- Duración: 1 hora y 30 minutos.
 - La presente prueba consta de dos opciones (A y B), de las cuales deberá desarrollar solamente una.
 - En todos los casos se considerarán elementos de ponderación de la nota final la claridad de la redacción y la corrección gramatical y ortográfica. La calificación máxima va expresada bajo cada pregunta.

OPCIÓN A

1.-Expresar de modo conciso el significado de los términos que se identifican con las letras a, b, c, d, y diga a qué concepto hacen referencia las expresiones correspondientes a las letras e, f.

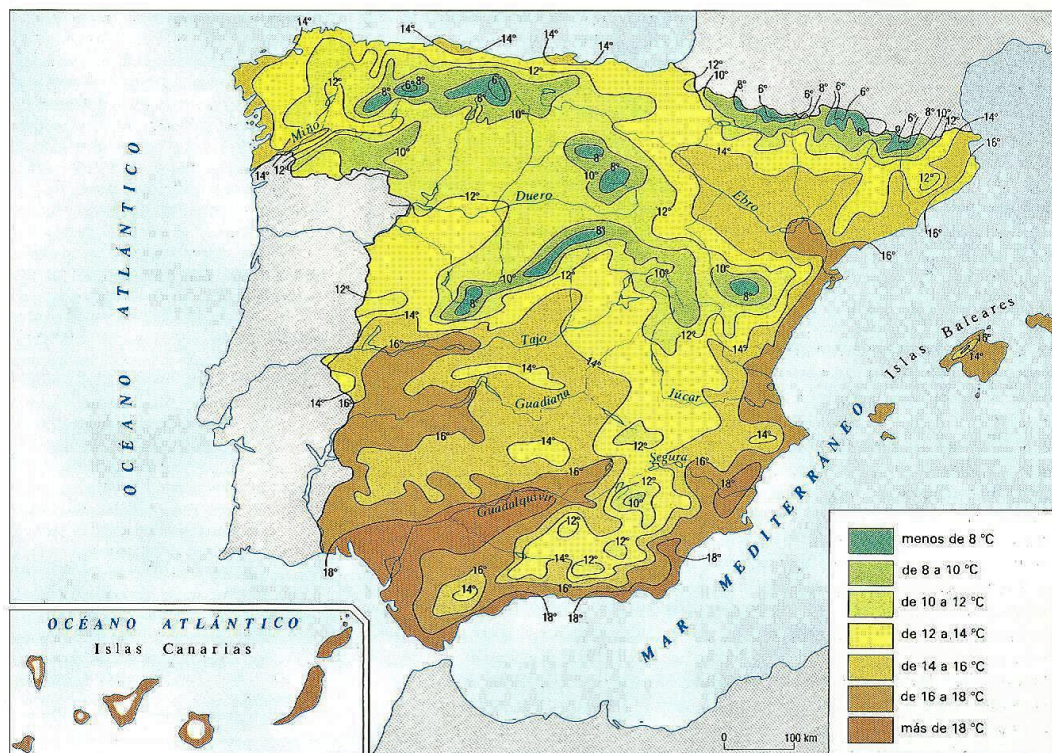
- Frente polar
- Proteccionismo
- Relieve alpino
- Área periurbana
- ¿Cómo se conoce a los árboles que pierden la hoja anualmente en otoño?
- ¿Con qué otro nombre se conoce a las actividades económicas propias de los núcleos urbanos, que se realizan tanto para servir a la población de la propia ciudad como a la población de otros núcleos urbanos próximos de menor tamaño?

Valoración: hasta 3 puntos; máximo 0,5 puntos por respuesta correcta.

2. A continuación se reproduce un mapa de España de temperaturas medias anuales. Obsérvelo con atención y responda a las siguientes cuestiones:

- Describe brevemente el mapa y diga si existe alguna relación entre este mapa y el relieve de España. (Hasta 1.5 puntos).
- ¿Qué diferencias aprecia entre los litorales mediterráneo y cantábrico? (Hasta 1 punto).
- ¿Considera que la actividad turística guarda relación con esta distribución de la temperatura media en España? Justifique brevemente la respuesta. (Hasta 1.5 punto).

(Valoración: hasta 4 puntos)



3. Tema: El proceso de urbanización de España y el sistema de ciudades. Principales etapas del proceso de urbanización en España. El sistema interurbano: jerarquía, funciones y zonas de influencia. Principales áreas y ejes urbanos.

(Valoración: hasta 3 puntos)

- Instrucciones:
- Duración: 1 hora y 30 minutos.
 - La presente prueba consta de dos opciones (A y B), de las cuales deberá desarrollar solamente una.
 - En todos los casos se considerarán elementos de ponderación de la nota final la claridad de la redacción y la corrección gramatical y ortográfica. La calificación máxima va expresada bajo cada pregunta.

OPCIÓN B

1.-Expresar de modo conciso el significado de los términos que se identifican con las letras a, b, c, d, y diga a qué concepto hacen referencia las expresiones correspondientes a las letras e, f.

- Vertiente hidrográfica
- Reconversión industrial
- Plataforma continental
- Parcela de cultivo
- ¿Cómo se conoce al conjunto de islas que se encuentran próximas entre sí?
- La relación que existe entre el número de nacimientos ocurridos en un año y el total de población del mismo año, se llama:

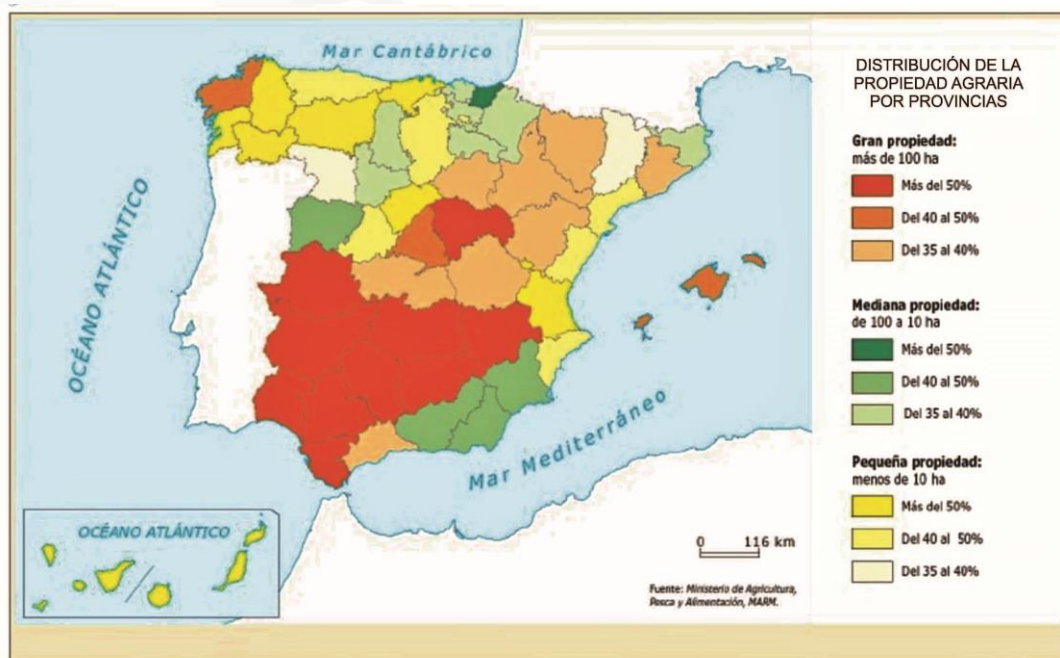
.....

Valoración: hasta 3 puntos; máximo 0,5 puntos por respuesta correcta

2. En el mapa se representa la distribución de la propiedad agraria por provincias. Conteste a las siguientes preguntas.

- ¿En qué provincias la gran propiedad supone más del 50% del total de la propiedad agraria? (Hasta 1 punto)
- ¿En qué provincias la pequeña propiedad supone más del 50% del total de la propiedad agraria? (Hasta 1 punto)
- Explique los factores que han provocado dicha distribución y las consecuencias que se han derivado de ellas (Hasta 2 puntos)

(Valoración: Hasta 4 puntos)



3. Tema: El relieve español. Caracteres generales. La variedad litológica. El proceso de formación. Las costas españolas.

(Valoración: hasta 3 puntos)



UNIVERSIDADES DE ANDALUCÍA
PRUEBA DE ACCESO Y ADMISIÓN A LA
UNIVERSIDAD
 CURSO 2016-2017

GEOGRAFÍA

- Instrucciones:**
- Duración: 1 hora y 30 minutos.
 - La presente prueba consta de dos opciones (A y B), de las cuales deberá desarrollar solamente una.
 - En todos los casos se considerarán elementos de ponderación de la nota final la claridad de la redacción y la corrección gramatical y ortográfica. La calificación máxima va expresada bajo cada pregunta.

OPCIÓN A

1.-Expresar de modo conciso el significado de los términos que se identifican con las letras a, b, c, d, y diga a qué concepto hacen referencia las expresiones correspondientes a las letras e, f.

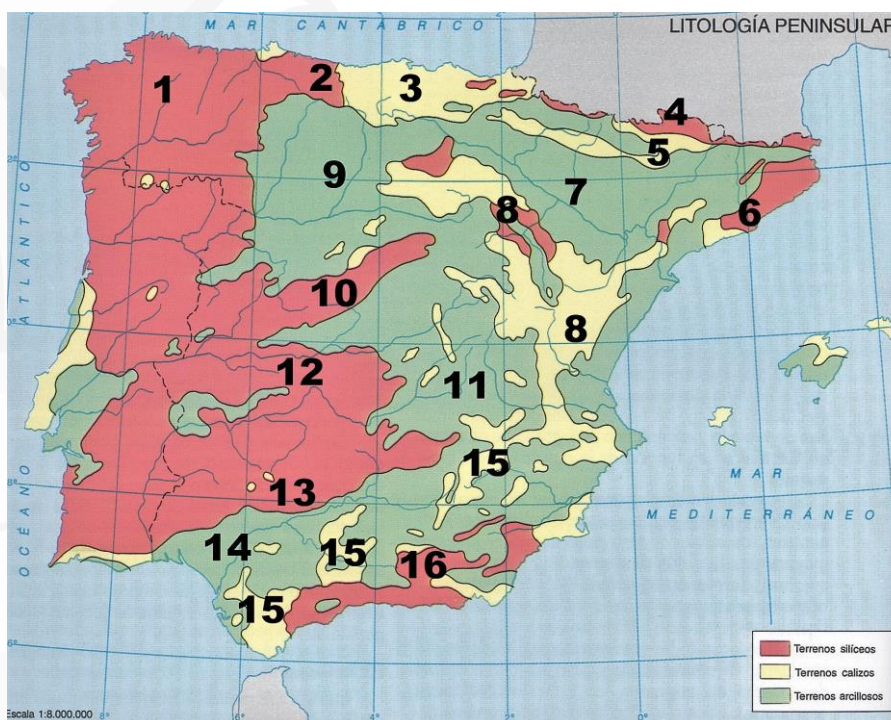
- Isobaras
- Funciones urbanas
- Cuenca hidrográfica
- Explotación agraria
- ¿Cómo se llama la vertiente de una montaña expuesta a la dirección del viento?
- ¿Con qué nombre se conoce la emigración de personas del campo a la ciudad, la cual supone un cambio de residencia y normalmente también un cambio de actividad?

Valoración: hasta 3 puntos; máximo 0,5 puntos por respuesta correcta.

2. El mapa muestra las unidades litológicas de la Península Ibérica. Tras su observación responda a las siguientes cuestiones:

- Qué Comunidades Autónomas tienen parte o todo su territorio asentado sobre la Iberia silíceo en el Oeste peninsular. (Hasta 1 punto)
- Identifique, por separado, con sus números y nombre: las unidades interiores de la Meseta; las periféricas de la Meseta; y las exteriores a la Meseta. (Hasta 1 punto)
- ¿Qué relación básica guarda cada una de las tres Iberias con los distintos usos y aprovechamientos del territorio? (Hasta 2 puntos)

(Valoración: hasta 4 puntos)



3. Tema: El turismo en España. El significado del turismo en la geografía y sociedad española. Los caracteres de la oferta turística y los tipos de turismo. Las principales áreas turísticas en España. Consecuencias geográficas del turismo en España.

(Valoración: hasta 3 puntos)

- Instrucciones:
- Duración: 1 hora y 30 minutos.
 - La presente prueba consta de dos opciones (A y B), de las cuales deberá desarrollar solamente una.
 - En todos los casos se considerarán elementos de ponderación de la nota final la claridad de la redacción y la corrección gramatical y ortográfica. La calificación máxima va expresada bajo cada pregunta.

OPCIÓN B

1.-Expresar de modo conciso el significado de los términos que se identifican con las letras a, b, c, d, y diga a qué concepto hacen referencia las expresiones correspondientes a las letras e, f.

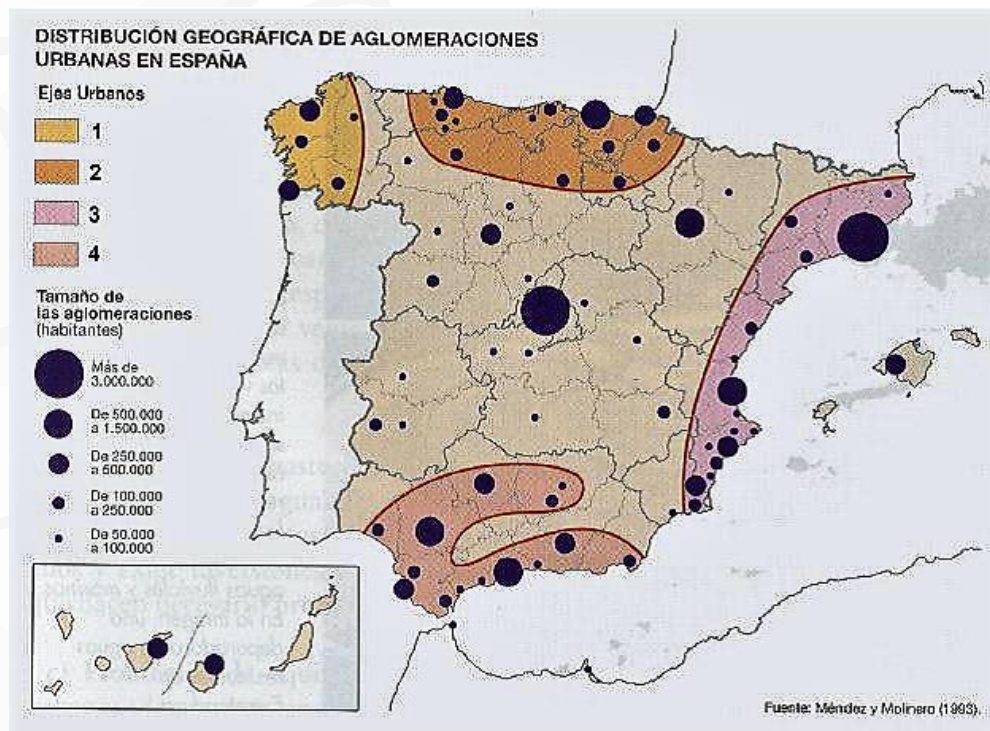
- Morfología cárstica
- Oferta turística
- Impacto ambiental
- Red de transportes
- ¿Qué nombre recibe la corriente de agua que fluye con rapidez en un área de pendientes pronunciadas?
- Nombre que reciben las áreas urbanizadas para la instalación de empresas de alta tecnología

Valoración: hasta 3 puntos; máximo 0,5 puntos por respuesta correcta

2. En el siguiente mapa se representa el sistema urbano español. Analícelo y conteste a las siguientes preguntas:

- Cite las aglomeraciones urbanas que tienen entre 500.000 y 1.500.000 habitantes y sitúelas en los ejes urbanos correspondientes. (Hasta 1 punto).
- Describa los principales ejes urbanos que aparecen reflejados en el mapa. (Hasta 1 punto).
- Explique los principales rasgos del sistema urbano español. (Hasta 2 puntos).

(Valoración: hasta 4 puntos)



3. Tema: Caracterización general del clima en España. Los condicionantes básicos. Los elementos climáticos y su distribución espacial. Los factores climáticos.

(Valoración: hasta 3 puntos)

- Instrucciones:
- Duración: 1 hora y 30 minutos.
 - La presente prueba consta de dos opciones (A y B), de las cuales deberá desarrollar solamente una
 - En todos los casos se considerarán elementos de ponderación de la nota final la claridad de la redacción y la corrección gramatical y ortográfica. La calificación máxima va expresada bajo cada pregunta.

OPCIÓN A

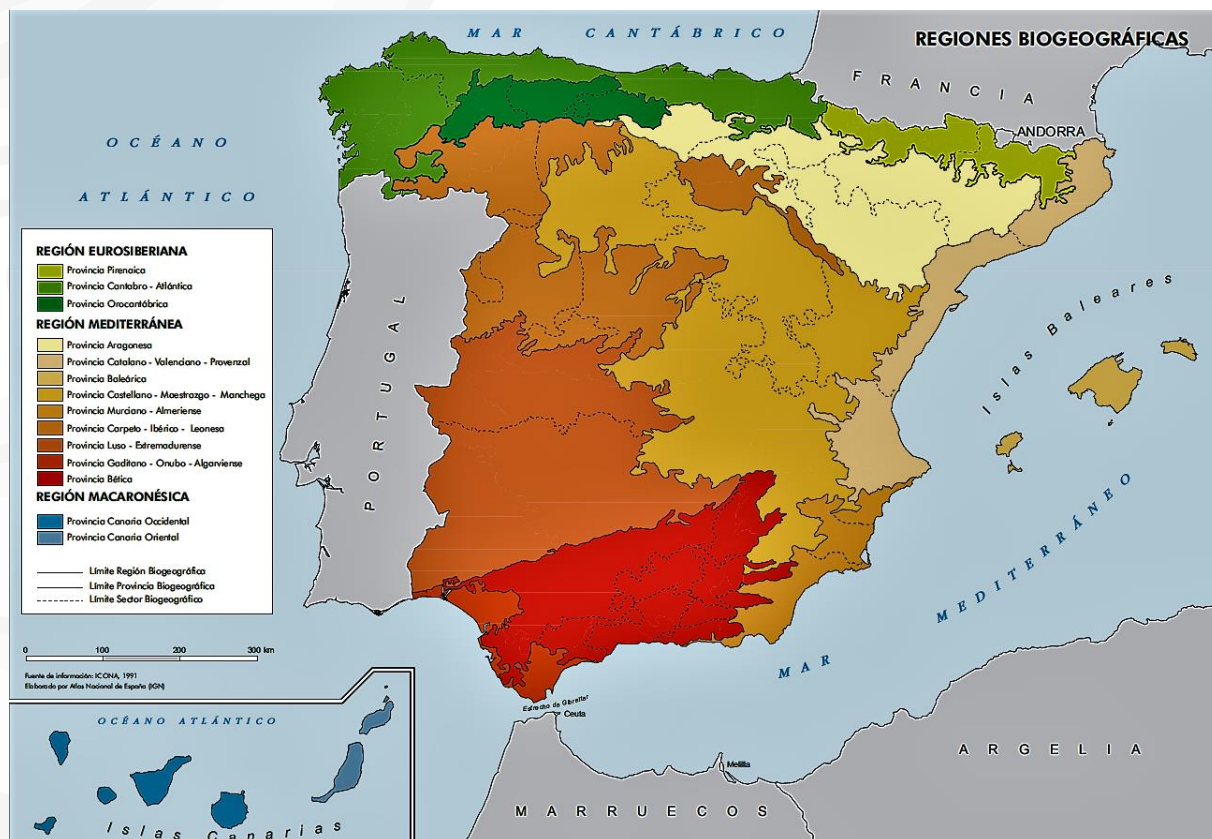
1.-Expresar de modo conciso el significado de los términos que se identifican con las letras a, b, c, d, y diga a qué concepto hacen referencia las expresiones correspondientes a las letras e, f.

- Anticiclón
- Balanza de pagos
- Mapa topográfico
- Barrio
- ¿Qué nombre recibe la desembocadura de un río con acumulación de aluviones en forma de abanico o triángulo?
- ¿Cómo se les conoce a las grandes agencias de viajes que se centran en la confección de paquetes turísticos?

Valoración: hasta 3 puntos; máximo 0,5 puntos por respuesta correcta.

2. A continuación se presenta un mapa de las regiones biogeográficas de España. Obsérvelo y responda a las siguientes cuestiones:

- Identifique las provincias administrativas correspondientes a la región eurosiberiana. (Hasta 1 punto).
 - Señale las principales especies correspondientes al ámbito biogeográfico de Andalucía. (Hasta 1 punto).
 - Explique la relación existente entre las condiciones físicas del territorio y las diferentes regiones biogeográficas. (Hasta 2 puntos).
- (Valoración: hasta 4 puntos)



3. Tema: Morfología y estructura de la ciudad en España. Principales rasgos morfológicos de la ciudad en España. El plano de la ciudad. La estructura urbana: los usos del espacio en el interior de la ciudad.

(Valoración: hasta 3 puntos)

- Instrucciones:
- Duración: 1 hora y 30 minutos.
 - La presente prueba consta de dos opciones (A y B), de las cuales deberá desarrollar solamente una
 - En todos los casos se considerarán elementos de ponderación de la nota final la claridad de la redacción y la corrección gramatical y ortográfica. La calificación máxima va expresada bajo cada pregunta.

OPCIÓN B

1.-Expresar de modo conciso el significado de los términos que se identifican con las letras a, b, c, d, y diga a qué concepto hacen referencia las expresiones correspondientes a las letras e, f.

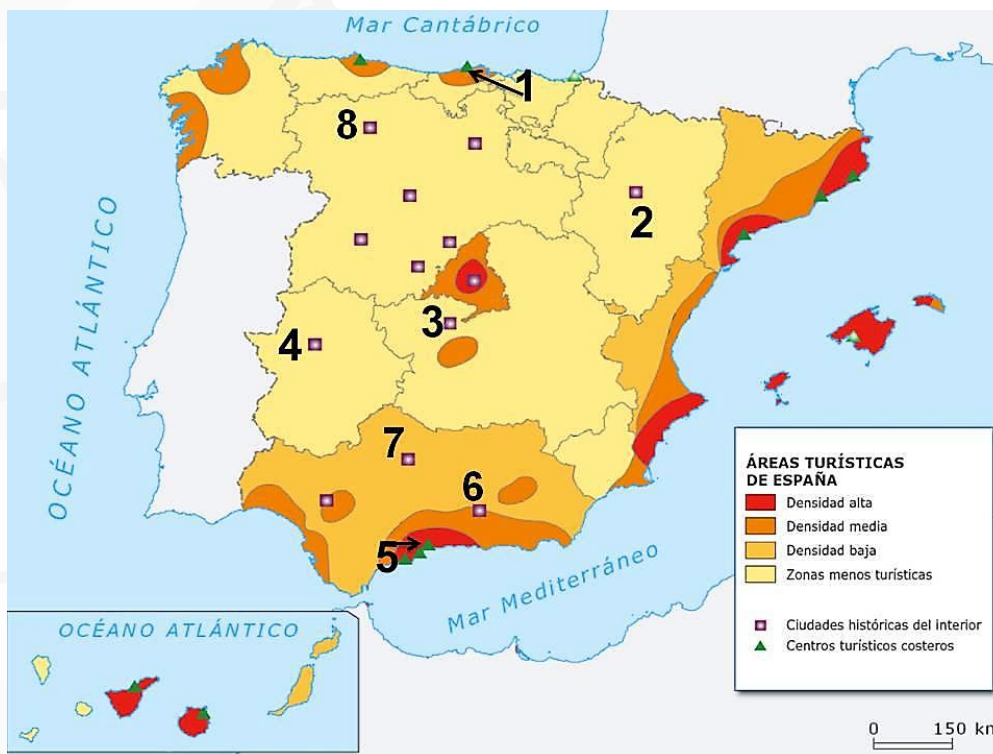
- Bosque mediterráneo
- Estructura demográfica
- Falla geológica
- Sector terciario
- En cartografía, la relación que existe entre las dimensiones de lo representado en el mapa y la realidad se denomina.....
- ¿Cómo se conoce la política que gestiona las subvenciones que se otorgan a los agricultores y ganaderos de la Unión Europea?

Valoración: hasta 3 puntos; máximo 0,5 puntos por respuesta correcta.

2. Analice el mapa de España en el que se representan las áreas turísticas. Responda a las siguientes cuestiones:

- Correlacione los números del 1 al 8 con las ciudades a las que corresponden e indique qué tipo de turismo predomina en cada una de ellas. (Hasta 1 punto).
- Nombre las provincias con alta densidad turística e indique qué tipo de turismo predomina en cada una de ellas. (Hasta 1 punto).
- Explique las diferencias entre las áreas turísticas atlánticas y mediterráneas. (Hasta 2 puntos).

(Valoración: hasta 4 puntos).



3. Tema: Las regiones biogeográficas de España. Factores de la diversidad biogeográfica. Características de las regiones biogeográficas. Formaciones vegetales de la España peninsular e insular. La intervención humana y sus consecuencias geográficas.

(Valoración: hasta 3 puntos)