

UNIVERSIDADES DE ANDALUCÍA
PRUEBA DE ACCESO Y ADMISIÓN A LA
UNIVERSIDAD
 CURSO 2017-2018

GEOGRAFÍA

- Instrucciones:**
- a) Duración: 1 hora y 30 minutos.
 - b) La presente prueba consta de dos opciones (A y B), de las cuales únicamente se puede desarrollar una, no pudiendo mezclar, en ningún caso, preguntas de ambas opciones
 - c) En todos los casos se considerarán elementos de ponderación de la nota final la calidad de la redacción y la corrección gramatical y ortográfica. La calificación máxima va expresada bajo cada pregunta

OPCIÓN A

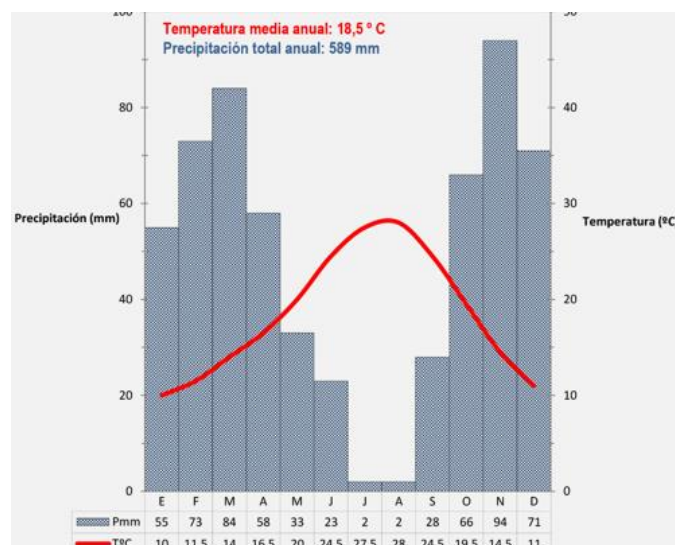
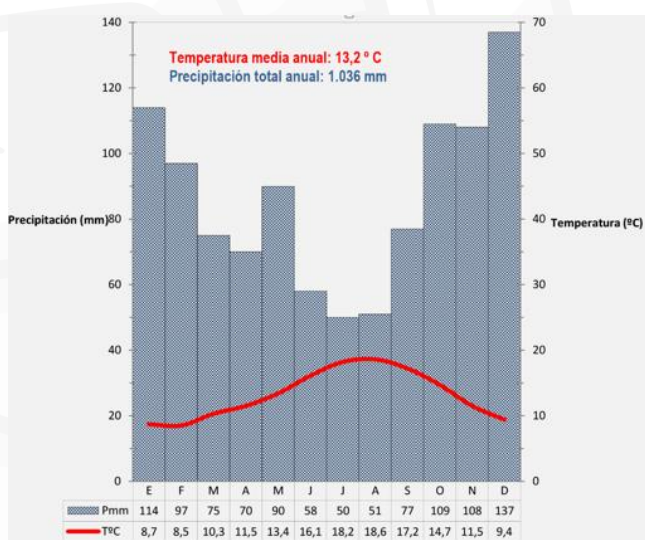
1. **Expresé de modo conciso el significado de los términos que se identifican con las letras a, b, c, d, y diga a qué concepto hacen referencia las expresiones correspondientes a las letras e, f.**
- a) dehesa
 - b) delta fluvial
 - c) crecimiento vegetativo
 - d) balanza de pagos
 - e) ¿Con qué nombre se designa a la transformación industrial de productos agropecuarios? _____
 - f) La diferencia entre la temperatura máxima y la mínima de un lugar se denomina _____

(Valoración: Hasta 3 puntos; máximo 0'5 puntos por respuesta correcta)

2. **Analice estos dos climogramas y conteste a las preguntas siguientes:**

- a) Explique las variaciones estacionales de temperatura y precipitación de cada uno de los climogramas. (Hasta 1 punto).
- b) Defina el concepto de aridez mensual y explique cómo se representa en el climograma correspondiente. (Hasta 1 punto)
- c) Basándose en los datos anteriores explique razonadamente qué tipo de clima representa cada uno de los climogramas. (Hasta 2 puntos)

Valoración: Hasta 4 puntos)



3. **Tema.- EL PROCESO DE URBANIZACIÓN DE ESPAÑA Y EL SISTEMA DE CIUDADES.** Principales etapas del proceso de urbanización en España. El sistema interurbano: jerarquía, funciones y zonas de influencia. Principales áreas y ejes urbanos.

(Valoración: Hasta 3 puntos)

UNIVERSIDADES DE ANDALUCÍA
PRUEBA DE ACCESO Y ADMISIÓN A LA
UNIVERSIDAD
 CURSO 2017-2018

GEOGRAFÍA

- Instrucciones:**
- Duración: 1 hora y 30 minutos.
 - La presente prueba consta de dos opciones (A y B), de las cuales únicamente se puede desarrollar una, no pudiendo mezclar, en ningún caso, preguntas de ambas opciones
 - En todos los casos se considerarán elementos de ponderación de la nota final la calidad de la redacción y la corrección gramatical y ortográfica. La calificación máxima va expresada bajo cada pregunta

OPCIÓN B

1. Exprese de modo conciso el significado de los términos que se identifican con las letras a, b, c, d, y diga a qué concepto hacen referencia las expresiones correspondientes a las letras e, f.

- occidental
- éxodo rural
- estuario
- frente polar
- La zona hundida del relieve donde se depositan y acumulan los sedimentos se llama _____
- El grado de ocupación demográfica de un territorio expresado en habs/km² se denomina _____

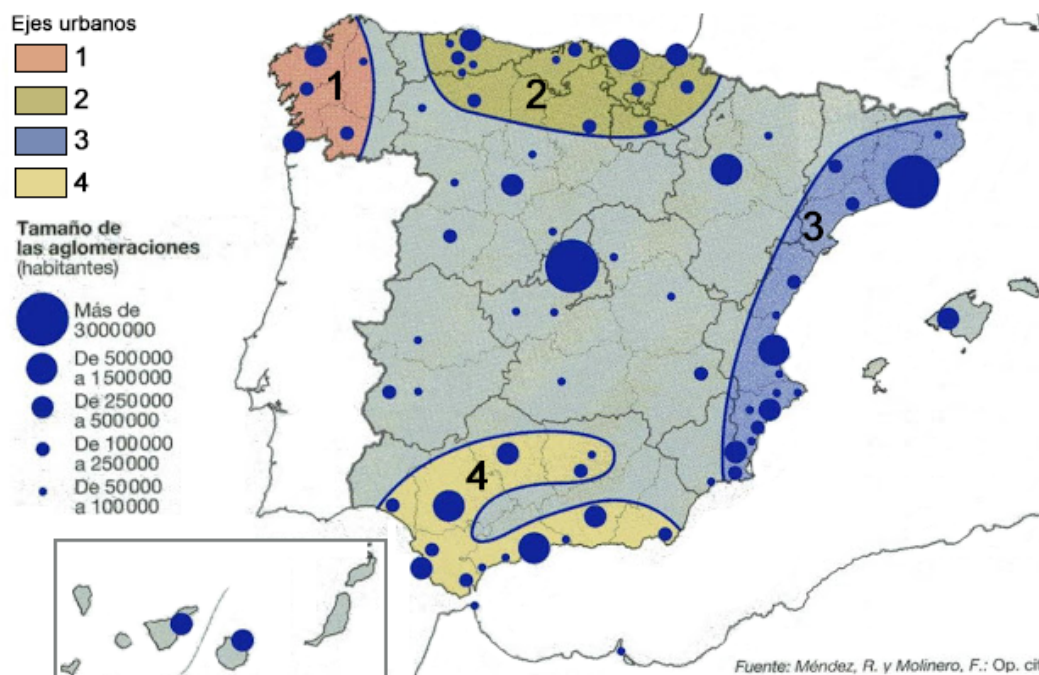
(Valoración: Hasta 3 puntos; máximo 0'5 puntos por respuesta correcta)

2. En el siguiente mapa se representa el sistema urbano español. Analícelo y conteste a las siguientes preguntas:

- Cite las aglomeraciones urbanas que tienen entre 500.000 y 1.500.000 habitantes y sitúelas en los ejes urbanos correspondientes. (Hasta 1 punto).
- Describa los principales ejes urbanos que aparecen reflejados en el mapa. (Hasta 1 punto).
- Explique las principales características del sistema urbano español. (Hasta 2 puntos).

(Valoración: Hasta 4 puntos)

DISTRIBUCIÓN GEOGRÁFICA DE LAS AGLOMERACIONES URBANAS EN ESPAÑA



3. Tema.- **LAS GRANDES UNIDADES DEL RELIEVE.** La Meseta y sus unidades interiores. Los rebordes montañosos de la Meseta. Los sistemas y unidades exteriores. Los relieves insulares

(Valoración: Hasta 3 puntos)

UNIVERSIDADES DE ANDALUCÍA
PRUEBA DE ACCESO Y ADMISIÓN A LA
UNIVERSIDAD
 CURSO 2017-2018

GEOGRAFÍA

- Instrucciones:**
- Duración: 1 hora y 30 minutos.
 - La presente prueba consta de dos opciones (A y B), de las cuales únicamente se puede desarrollar una, no pudiendo mezclar, en ningún caso, preguntas de ambas opciones
 - En todos los casos se considerarán elementos de ponderación de la nota final la calidad de la redacción y la corrección gramatical y ortográfica. La calificación máxima va expresada bajo cada pregunta

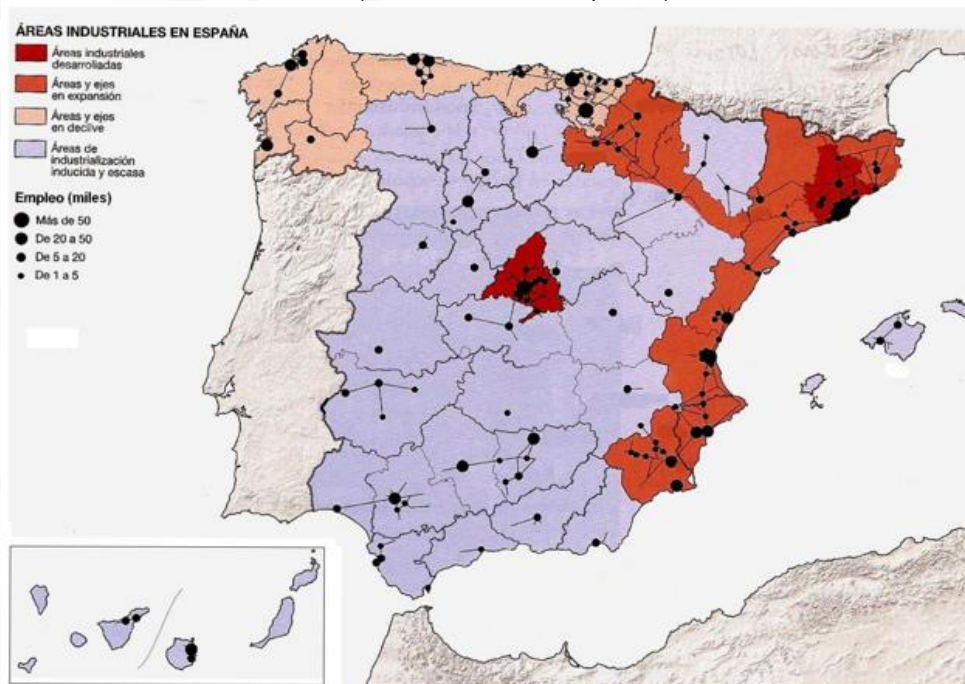
OPCIÓN A

- Expresar de modo conciso el significado de los términos que se identifican con las letras a, b, c, d, y diga a qué concepto hacen referencia las expresiones correspondientes a las letras e, f.
 - península
 - latifundio
 - latitud geográfica
 - relieve kárstico o cársico
 - ¿Qué nombre reciben las áreas de concentración de empresas cuya actividad principal se basa en la investigación e innovación y emplean a personal altamente cualificado? _____
 - La cantidad de agua que transporta un río, expresada en unidades de volumen por unidad de tiempo, se denomina _____

(Valoración: Hasta 3 puntos; máximo 0'5 puntos por respuesta correcta)

- El mapa representa la distribución de la industria y el empleo industrial España. Analícelo y responda a las preguntas que se plantean.
 - Identifique y relacione los principales focos industriales de España. (Hasta 1 punto)
 - Identifique y relacione las áreas industriales en declive (Hasta 1 punto)
 - Explique cuáles son los factores que condicionan esta distribución de los espacios industriales (Hasta 2 puntos)

(Valoración: Hasta 4 puntos)



- Tema.- CARACTERIZACIÓN GENERAL DEL CLIMA EN ESPAÑA.** Los elementos climáticos y su distribución espacial. Los factores climáticos.

(Valoración: Hasta 3 puntos)

UNIVERSIDADES DE ANDALUCÍA
PRUEBA DE ACCESO Y ADMISIÓN A LA
UNIVERSIDAD
 CURSO 2017-2018

GEOGRAFÍA

- Instrucciones:**
- Duración: 1 hora y 30 minutos.
 - La presente prueba consta de dos opciones (A y B), de las cuales únicamente se puede desarrollar una, no pudiendo mezclar, en ningún caso, preguntas de ambas opciones
 - En todos los casos se considerarán elementos de ponderación de la nota final la calidad de la redacción y la corrección gramatical y ortográfica. La calificación máxima va expresada bajo cada pregunta

OPCIÓN B

1. Exprese de modo conciso el significado de los términos que se identifican con las letras a, b, c, d, y diga a qué concepto hacen referencia las expresiones correspondientes a las letras e, f.

- litoral
- régimen de tenencia de la tierra
- polígono industrial
- equinoccio
- La zona o superficie geográfica cuyas aguas fluyen hacia el interior de la misma sin desaguar al mar se denomina _____
- ¿Por qué nombre y siglas se conoce a la política de la Unión Europea en materia agrícola y ganadera? _____

(Valoración: Hasta 3 puntos; máximo 0'5 puntos por respuesta correcta)

2. En el mapa adjunto se representan los principales dominios agrarios de España. A la vista del mismo, responda a las siguientes cuestiones:

- Identifique cada uno de estos dominios en la hoja de examen y describa su distribución espacial. (hasta 1 punto)
- Indique los principales caracteres climáticos de los lugares marcados con un punto rojo e identificado con las letras A, B, C, D, E. (Hasta 1 punto)
- Explique brevemente los factores físicos (clima, relieve, litología) que influyen en cada uno de los dominios agrarios representados en el mapa (Hasta 2 puntos)

(Valoración: Hasta 4 puntos)



3. Tema.- **EL TRANSPORTE EN ESPAÑA Y SU PAPEL EN EL TERRITORIO.** Las redes de transporte como elemento básico de la articulación territorial y económica de España. Sistemas y medios de transporte en España. Los nuevos sistemas de transporte y comunicaciones en España.

(Valoración: Hasta 3 puntos)

UNIVERSIDADES DE ANDALUCÍA
PRUEBA DE ACCESO Y ADMISIÓN A LA
UNIVERSIDAD
 CURSO 2017-2018

GEOGRAFÍA

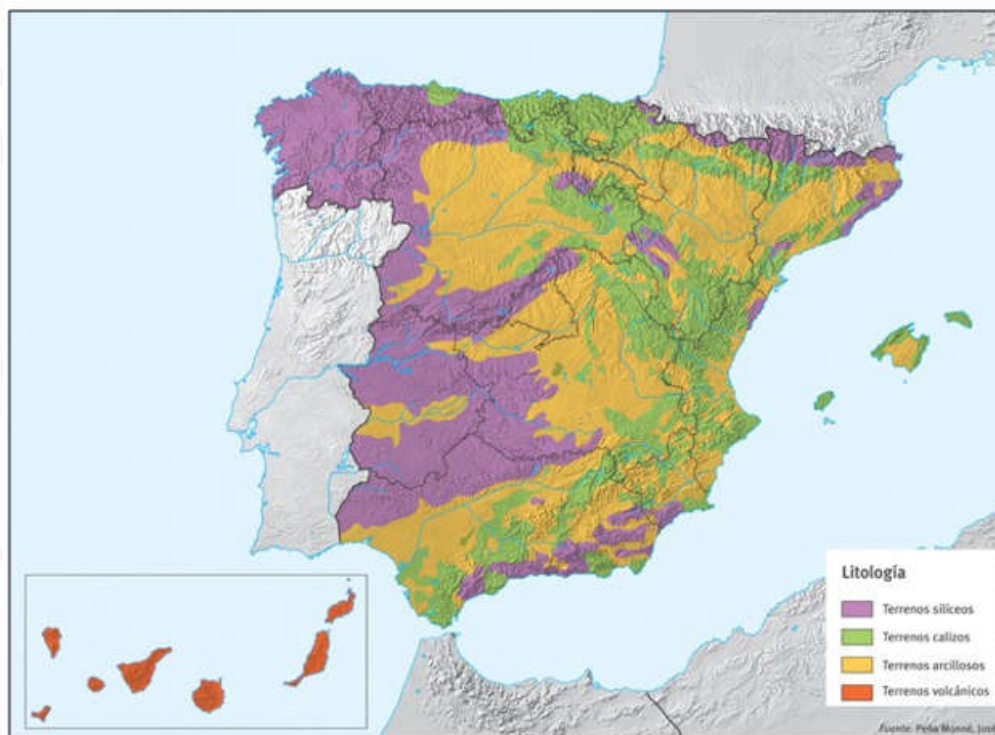
- Instrucciones:**
- a) Duración: 1 hora y 30 minutos.
 - b) La presente prueba constará de dos opciones (A y B), de las cuales únicamente se puede desarrollar una, no pudiendo mezclar, en ningún caso preguntas de ambas opciones
 - c) En todos los casos se considerarán elementos de ponderación de la nota final la calidad de la redacción y la corrección gramatical y ortográfica. La calificación máxima va expresada bajo cada pregunta

OPCIÓN A

- Expresé de modo conciso el significado de los términos que se identifican con las letras a, b, c, d, y diga a qué concepto hacen referencia las expresiones correspondientes a las letras e, f.**
 - a) tasa de fecundidad
 - b) estiaje
 - c) área periurbana
 - d) explotación agraria
 - e) Las líneas que unen los puntos de igual presión en un mapa meteorológico se llaman _____
 - f) ¿Cuál es el nombre del movimiento orogénico de la Era Terciaria que dio origen a las formaciones recientes del relieve de la Península Ibérica y de algunas islas españolas? _____

(Valoración: Hasta 3 puntos; máximo 0'5 puntos por respuesta correcta)
- A continuación se reproduce un mapa físico de España donde se representan los dominios litológicos. Obsérvelo y conteste a las siguientes preguntas:**
 - a) Identifique las Comunidades Autónomas en las que hay presencia de litología silícea (Hasta 1 punto).
 - b) Describa la distribución de la litología arcillosa en España y justifique su presencia en esas partes del relieve (Hasta 1 punto).
 - c) Analice la disposición de la litología caliza y enumere las Unidades Morfoestructurales que conforman. Indique las principales formas de relieve que dominan en dicha tipología de rocas (Hasta 2 puntos).

(Valoración: Hasta 4 puntos)



- Tema.- LA INDUSTRIA EN ESPAÑA.** El proceso de industrialización y sus hitos más recientes. Factores de la actividad industrial. Principales sectores industriales en la actualidad. Distribución geográfica de la industria en España.
 (Valoración: Hasta 3 puntos)

UNIVERSIDADES DE ANDALUCÍA
PRUEBA DE ACCESO Y ADMISIÓN A LA
UNIVERSIDAD
 CURSO 2017-2018

GEOGRAFÍA

- Instrucciones:**
- Duración: 1 hora y 30 minutos.
 - La presente prueba constará de dos opciones (A y B), de las cuales únicamente se puede desarrollar una, no pudiendo mezclar, en ningún caso preguntas de ambas opciones
 - En todos los casos se considerarán elementos de ponderación de la nota final la calidad de la redacción y la corrección gramatical y ortográfica. La calificación máxima va expresada bajo cada pregunta

OPCIÓN B

1. Expresé de modo conciso el significado de los términos que se identifican con las letras a, b, c, d, y diga a qué concepto hacen referencia las expresiones correspondientes a las letras e, f.

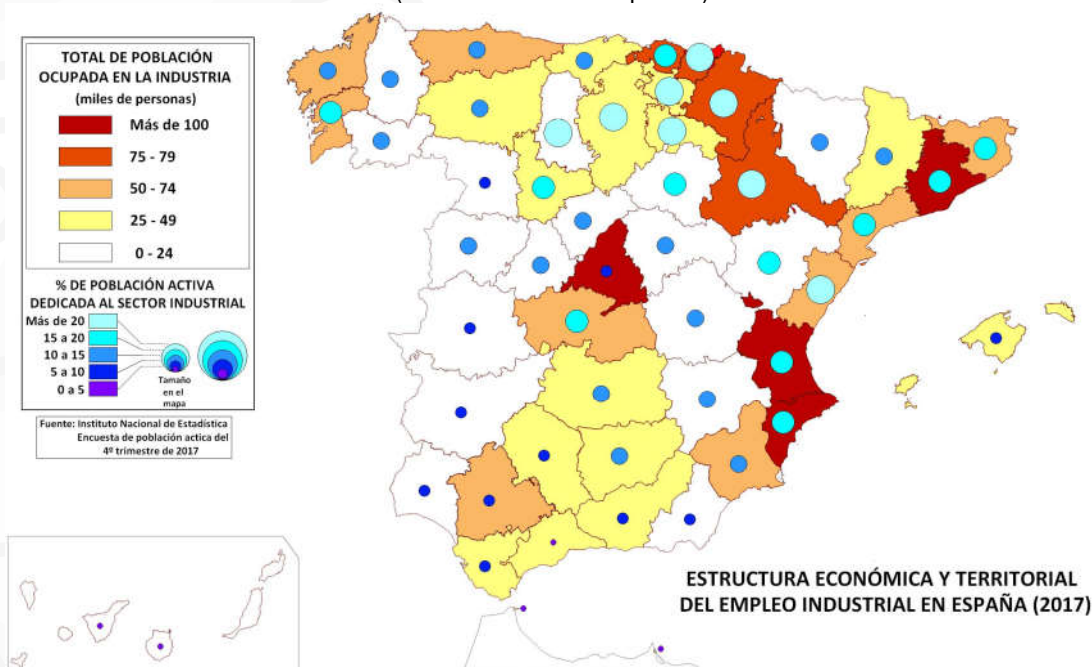
- escala de un mapa
- relieve alpino
- meandro
- presión atmosférica
- La industria dedicada a la obtención de acero a partir del mineral de hierro se llama _____
- La emigración o salida masiva de habitantes de las zonas rurales hacia las zonas urbanas se conoce con el nombre de _____

(Valoración: Hasta 3 puntos; máximo 0'5 puntos por respuesta correcta)

2. El mapa representa la estructura económico-territorial del empleo industrial en España. Analícelo y responda a las cuestiones que se plantean.

- Señale, ordenándolas por su localización de oeste a este, el nombre de las provincias que ocupan a más de 75.000 personas en la industria. (Hasta 1 punto)
- Identifique y enuncie las provincias con más del 20 % de población activa empleada en la industria. (Hasta 1 punto)
- Comente las líneas generales y los factores de la actual distribución espacial de la industria en España. (Hasta 2 puntos)

(Valoración: Hasta 4 puntos)



3. Tema.- **LOS DOMINIOS CLIMÁTICOS EN ESPAÑA.** Los principales tipos de clima y sus características. La distribución geográfica de los climas de España.

(Valoración: Hasta 3 puntos)

UNIVERSIDADES DE ANDALUCÍA
PRUEBA DE ACCESO Y ADMISIÓN A LA
UNIVERSIDAD
 CURSO 2017-2018

GEOGRAFÍA

- Instrucciones:**
- Duración: 1 hora y 30 minutos.
 - La presente prueba constará de dos opciones (A y B), de las cuales únicamente se puede desarrollar una, no pudiendo mezclar, en ningún caso preguntas de ambas opciones
 - En todos los casos se considerarán elementos de ponderación de la nota final la calidad de la redacción y la corrección gramatical y ortográfica. La calificación máxima va expresada bajo cada pregunta

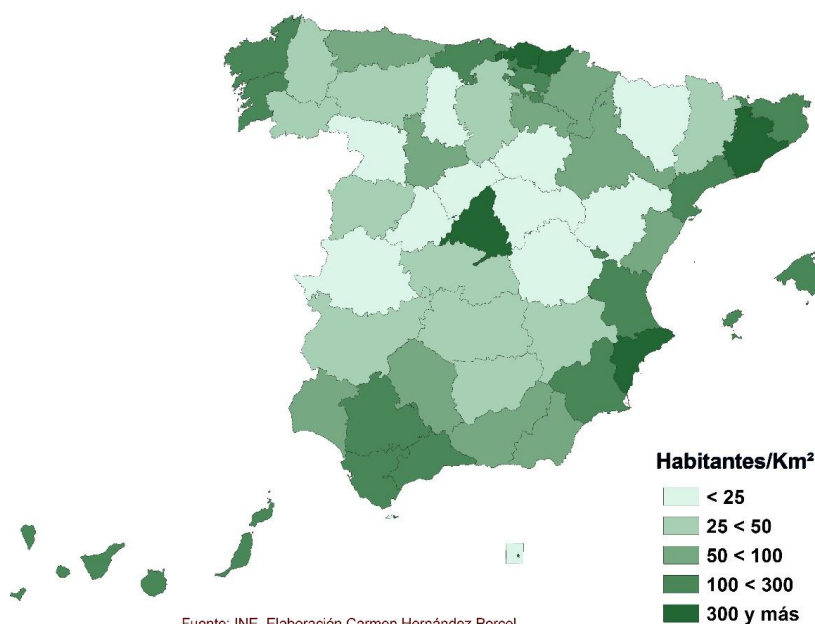
OPCIÓN A

- Expresar de modo conciso el significado de los términos que se identifican con las letras a, b, c, d, y diga a qué concepto hacen referencia las expresiones correspondientes a las letras e, f.
 - relieve herciniano
 - densidad de población
 - mapa topográfico
 - amplitud térmica
 - En una explotación agraria, la hoja de cultivo que no se siembra y se deja en descanso para propiciar su reposición se llama _____
 - La gráfica en la que se representa la población de una ciudad, país.... por grupos de edad y sexo se conoce con el nombre de _____

(Valoración: Hasta 3 puntos; máximo 0'5 puntos por respuesta correcta)
- En el mapa siguiente se representa la densidad de población de España en 2015 por provincias. Analicelo y responda a las siguientes cuestiones:
 - ¿Qué provincias tienen una densidad comprendida entre 25 y 50 habitantes por Km²? (Hasta 1 punto)
 - Analice y comente las diferencias de densidad entre las provincias españolas en 2015. (Hasta 1 punto)
 - Explique las causas de la distribución espacial de la población y justifique el caso de Madrid. (Hasta 2 puntos).

(Valoración: Hasta 4 puntos)

DENSIDAD DE POBLACIÓN EN 2015



Habitantes/Km ²	
	< 25
	25 < 50
	50 < 100
	100 < 300
	300 y más

- Tema.- LAS AGUAS Y LA RED HIDROGRÁFICA.** Las vertientes hidrográficas españolas. Los ríos y las cuencas hidrográficas. Los regímenes fluviales. Uso y aprovechamiento de las aguas.
 (Valoración: Hasta 3 puntos)

UNIVERSIDADES DE ANDALUCÍA
PRUEBA DE ACCESO Y ADMISIÓN A LA
UNIVERSIDAD
 CURSO 2017-2018

GEOGRAFÍA

- Instrucciones:**
- Duración: 1 hora y 30 minutos.
 - La presente prueba constará de dos opciones (A y B), de las cuales únicamente se puede desarrollar una, no pudiendo mezclar, en ningún caso preguntas de ambas opciones
 - En todos los casos se considerarán elementos de ponderación de la nota final la calidad de la redacción y la corrección gramatical y ortográfica. La calificación máxima va expresada bajo cada pregunta

OPCIÓN B

1. Exprese de modo conciso el significado de los términos que se identifican con las letras a, b, c, d, y diga a qué concepto hacen referencia las expresiones correspondientes a las letras e, f.

- solsticio
- tasa de mortalidad infantil
- agricultura intensiva
- bahía
- ¿Con qué nombre se conoce el fenómeno meteorológico que en ocasiones –comúnmente en septiembre y octubre– afecta al Levante español y produce precipitaciones muy intensas? _____
- La cantidad de agua que cae en un lugar durante un periodo de tiempo determinado se mide en _____

(Valoración: Hasta 3 puntos; máximo 0'5 puntos por respuesta correcta)

2. A continuación se presenta un mapa de las regiones biogeográficas de España. Responda a las siguientes cuestiones:

- Exprese las provincias administrativas comprendidas (en todo o parte) en la región eurosiberiana. (Hasta 1 punto).
- Señale las principales especies correspondientes al ámbito biogeográfico de la Provincia Bética. (Hasta 1 punto).
- Explique la relación existente entre las condiciones físicas del territorio y las diferentes regiones biogeográficas. (Hasta 2 puntos).

(Valoración: Hasta 4 puntos)



3. Tema.- EL PROCESO DE URBANIZACIÓN DE ESPAÑA Y EL SISTEMA DE CIUDADES. Principales etapas del proceso de urbanización en España. El sistema interurbano: jerarquía, funciones y zonas de influencia. Principales áreas y ejes urbanos. (Valoración: Hasta 3 puntos)

UNIVERSIDADES DE ANDALUCÍA
PRUEBA DE ACCESO Y ADMISIÓN A LA
UNIVERSIDAD
 CURSO 2017-2018

GEOGRAFÍA

- Instrucciones:**
- a) Duración: 1 hora y 30 minutos.
 - b) La presente prueba consta de dos opciones (A y B), de las cuales únicamente se puede desarrollar una, no pudiendo mezclar, en ningún caso, preguntas de ambas opciones
 - c) En todos los casos se considerarán elementos de ponderación de la nota final la calidad de la redacción y la corrección gramatical y ortográfica. La calificación máxima va expresada bajo cada pregunta

OPCIÓN A

1. **Expresar de modo conciso el significado geográfico de los términos que se identifican con las letras a, b, c, d, y diga a qué concepto hacen referencia las expresiones correspondientes a las letras e, f.**
- a) barbecho
 - b) isobaras
 - c) septentrional
 - d) turismo rural
 - e) El índice que expresa el número de nacimientos por cada mil habitantes se denomina _____
 - f) La producción o cultivo de varias especies vegetales en un mismo espacio agrario se llama _____

(Valoración: Hasta 3 puntos; máximo 0'5 puntos por respuesta correcta)

2. **La siguiente figura muestra una imagen aérea de la ciudad de Toledo. Conteste a las siguientes preguntas:**
- a) Defina el tipo de plano y razone la respuesta. (Hasta 1 punto)
 - b) Explique los factores del emplazamiento de la ciudad de Toledo. (Hasta 1 punto)
 - c) Explique los principales problemas que afectan hoy al casco antiguo de las ciudades españolas y comente qué medidas suelen aplicarse para solucionarlos. (Hasta 2 puntos)

(Valoración: Hasta 4 puntos)



3. **Tema.- EL RELIEVE ESPAÑOL.** Caracteres generales. La variedad litológica. El proceso de formación. Las costas españolas.

(Valoración: Hasta 3 puntos)

UNIVERSIDADES DE ANDALUCÍA
PRUEBA DE ACCESO Y ADMISIÓN A LA
UNIVERSIDAD
 CURSO 2017-2018

GEOGRAFÍA

- Instrucciones:**
- Duración: 1 hora y 30 minutos.
 - La presente prueba consta de dos opciones (A y B), de las cuales únicamente se puede desarrollar una, no pudiendo mezclar, en ningún caso, preguntas de ambas opciones
 - En todos los casos se considerarán elementos de ponderación de la nota final la calidad de la redacción y la corrección gramatical y ortográfica. La calificación máxima va expresada bajo cada pregunta

OPCIÓN B

- Expresar de modo conciso el significado geográfico de los términos que se identifican con las letras a, b, c, d, y diga a qué concepto hacen referencia las expresiones correspondientes a las letras e, f.
 - anticiclón
 - meridiano
 - rambla
 - población activa
 - ¿Qué término se utiliza para referirse al conjunto de métodos industriales de fabricación de productos químicos a partir del petróleo? _____
 - ¿Cómo se llama el movimiento orogénico ocurrido en la Era Primaria que originó una buena parte de las primeras formaciones de relieve de la Península Ibérica? _____
 (Valoración: Hasta 3 puntos; máximo 0'5 puntos por respuesta correcta)
- En el mapa adjunto se representan los principales ríos y las cuencas hidrográficas de España. Analícelo y responda a las siguientes preguntas:
 - Escriba el nombre de las cuencas enumeradas en el mapa (Hasta 1 punto)
 - Describe las características generales de la vertiente atlántica (Hasta 1 punto)
 - ¿Qué tipo de regímenes fluviales tienen los ríos de la vertiente mediterránea?. Razone la respuesta. (Hasta 2 puntos)
 (Valoración: Hasta 4 puntos)



- Tema.- DINÁMICA Y ESTRUCTURA DE LA POBLACIÓN ESPAÑOLA.** La dinámica natural. Los movimientos migratorios. Estructura y composición de la población.
 (Valoración: Hasta 3 puntos)

UNIVERSIDADES DE ANDALUCÍA
PRUEBA DE ACCESO Y ADMISIÓN A LA
UNIVERSIDAD
 CURSO 2017-2018

GEOGRAFÍA

- Instrucciones:**
- a) Duración: 1 hora y 30 minutos.
 - b) La presente prueba constará de dos opciones (A y B), de las cuales únicamente se puede desarrollar una, no pudiendo mezclar, en ningún caso preguntas de ambas opciones
 - c) En todos los casos se considerarán elementos de ponderación de la nota final la calidad de la redacción y la corrección gramatical y ortográfica. La calificación máxima va expresada bajo cada pregunta

OPCIÓN A

- Expresar de modo conciso el significado de los términos que se identifican con las letras a, b, c, d, y diga a qué concepto hacen referencia las expresiones correspondientes a las letras e, f.
 - a) humedad atmosférica
 - b) barlovento
 - c) longitud geográfica
 - d) cuenca sedimentaria
 - e) ¿Cómo se llama el documento demográfico que recoge los datos del recuento decenal de población? _____
 - f) Las explotaciones agrarias de gran superficie se conocen con el nombre de _____

(Valoración: Hasta 3 puntos; máximo 0'5 puntos por respuesta correcta)
- A continuación se presenta un mapa de altitudes sobre el nivel del mar de España. A partir del mismo responda a las siguientes cuestiones:
 - a) Diga el nombre de las unidades de relieve señaladas numéricamente del 1 al 5. (Hasta 1 punto).
 - b) Identifique y describa las características de los relieves señalados con las letras A y B. (Hasta 1 punto).
 - c) Explique el origen de la formación de las principales zonas altitudinales que se observan en el mapa. (Hasta 2 puntos).

(Valoración: Hasta 4 puntos)



- Tema.- LOS DOMINIOS Y PAISAJES AGRARIOS.** Los condicionantes del paisaje agrario. Dominios y paisajes de la España atlántica. Dominios y paisajes de la España mediterránea (interior y litoral). Otros paisajes agrarios.

(Valoración: Hasta 3 puntos)

UNIVERSIDADES DE ANDALUCÍA
PRUEBA DE ACCESO Y ADMISIÓN A LA
UNIVERSIDAD
 CURSO 2017-2018

GEOGRAFÍA

- Instrucciones:**
- Duración: 1 hora y 30 minutos.
 - La presente prueba constará de dos opciones (A y B), de las cuales únicamente se puede desarrollar una, no pudiendo mezclar, en ningún caso preguntas de ambas opciones
 - En todos los casos se considerarán elementos de ponderación de la nota final la calidad de la redacción y la corrección gramatical y ortográfica. La calificación máxima va expresada bajo cada pregunta

OPCIÓN B

1. Exprese de modo conciso el significado de los términos que se identifican con las letras a, b, c, d, y diga a qué concepto hacen referencia las expresiones correspondientes a las letras e, f.

- régimen fluvial
- cordillera
- plano ortogonal
- latitud geográfica
- El lugar preciso que ocupa una ciudad se conoce con el nombre de _____
- La diferencia entre natalidad y mortalidad en una población se denomina _____
 (Valoración: Hasta 3 puntos; máximo 0'5 puntos por respuesta correcta)

2. Analice el mapa de España en el que se representan las áreas turísticas. Responda a las siguientes cuestiones:

- Identifique las ciudades marcadas con los números 1 a 8 e indique qué tipo de turismo predomina en cada una de ellas. (Hasta 1 punto).
- Nombre las provincias con alta densidad turística y explique las características básicas de su modelo turístico. (Hasta 1 punto).
- Explique las diferencias entre las áreas turísticas atlánticas y mediterráneas. (Hasta 2 puntos).

(Valoración: Hasta 4 puntos)



3. Tema.- LAS REGIONES BIOGEOGRÁFICAS DE ESPAÑA. Factores de la diversidad biogeográfica. Características de las regiones biogeográficas. Formaciones vegetales de la España peninsular e insular. La intervención humana y sus consecuencias geográficas.

(Valoración: Hasta 3 puntos)