



PRUEBA DE ACCESO Y ADMISIÓN A LA UNIVERSIDAD

GEOGRAFÍA

ANDALUCÍA, CEUTA, MELILLA y CENTROS en MARRUECOS

CURSO 2019-2020

- Instrucciones:**
- Duración: 1 hora y 30 minutos.
 - El examen consta de 4 bloques. Deberá contestar al número de preguntas que se indican en cada uno.
 - La valoración de cada respuesta se indica en el bloque correspondiente.

El examen constará de 4 Bloques (A, B, C y D)

En cada bloque se plantearán varias preguntas, una para cada uno de los bloques de contenidos de la asignatura, de las que deberá responder al número que se indica en cada uno. En caso de **responder a más cuestiones de las requeridas**, serán tenidas en cuenta **las respondidas en primer lugar hasta alcanzar dicho número**.

BLOQUE A (Glosario. Significados geográficos)

Puntuación máxima: 2 puntos

En este bloque se plantean 8 términos geográficos para su definición, de los que debe responder, a su elección, SOLAMENTE 4. Cada respuesta tendrá un valor máximo de 0.5 puntos.

- | | | | |
|------------|-----------------------|---------------------------|-----------------------|
| a) Litoral | b) Pesca de altura | c) Energía hidroeléctrica | d) Tasa de mortalidad |
| e) Dehesa | f) Red de transportes | g) Latitud geográfica | h) Área periurbana |

BLOQUE B (Glosario. Significados de expresiones)

Puntuación máxima: 1 puntos

En este bloque se plantean 4 expresiones para relacionarlas con determinados conceptos geográficos, de las que debe responder, a su elección, SOLAMENTE 2.

Cada respuesta tendrá un valor máximo de 0.5 puntos.

- Las especies vegetales o animales que son propias y exclusivas de un determinado ámbito geográfico, se denominan
- El conjunto de islas próximas entre sí, y generalmente con un origen geológico común, se denomina
- El bosque de árboles que pierden sus hojas en invierno, típico de la zona del norte de España, se denomina
- La agricultura de bajo aprovechamiento por superficie cultivada, porque no es posible o no es necesario aprovechar todas las tierras, al disponerse de grandes extensiones de terreno, y requieren poca mano de obra, se denomina

BLOQUE C (Ejercicios de desarrollo)

Puntuación máxima: 4 puntos

En este bloque se plantean 2 ejercicios de análisis y comentario de mapas, gráficos, cuadros estadísticos o textos, de los que debe responder, a su elección, SOLAMENTE 1.

Cada ejercicio tendrá un valor máximo de 4 puntos.

EJERCICIO 1. El Mapa nº 1 representa la población rural en las provincias españolas (porcentaje de población en municipios de menos de 10.000 habitantes). Analícelo y responda a las siguientes cuestiones:

- ¿Cuáles son las provincias con entre el 40,01% y el 50% de población rural? (Hasta 1 punto).
- ¿A qué se debe la concentración de población rural en la submeseta norte? (Hasta 1 punto).
- ¿Qué procesos explican la distribución de la población rural en España? (Hasta 2 puntos).

EJERCICIO 2. El Mapa nº 2 muestra las plazas hoteleras en España en agosto de 2014. Analícelo y responda a las siguientes cuestiones:

- Enumere 10 provincias en las que las plazas en hoteles con respecto al total nacional sea inferior al 1,1% (Hasta 1 punto).
- ¿Qué tipos de turismo se dan en las provincias que concentran más del 5% de las plazas hoteleras? (Hasta 1 punto).
- Explique las causas turísticas que explican la distribución de las plazas hoteleras en España. (Hasta 2 puntos).

Los mapas correspondientes están al final.



PRUEBA DE ACCESO Y ADMISIÓN A LA UNIVERSIDAD

ANDALUCÍA, CEUTA, MELILLA y CENTROS en MARRUECOS

CURSO 2019-2020

GEOGRAFÍA

BLOQUE D. (Desarrollo de temas)

Puntuación máxima: 3 puntos

En este bloque se plantean 2 temas, de los que debe desarrollar, a su elección, SOLAMENTE 1.

Cada cuestión tendrá un valor máximo de 3 puntos.

TEMA A. EL CLIMA. Elementos y factores climáticos. Los principales tipos de climas, características y distribución espacial.

TEMA B. LAS AGUAS Y LA RED HIDROGRÁFICA. Las vertientes hidrográficas españolas. Los ríos y las cuencas hidrográficas. Los regímenes fluviales. Uso y aprovechamiento de las aguas.

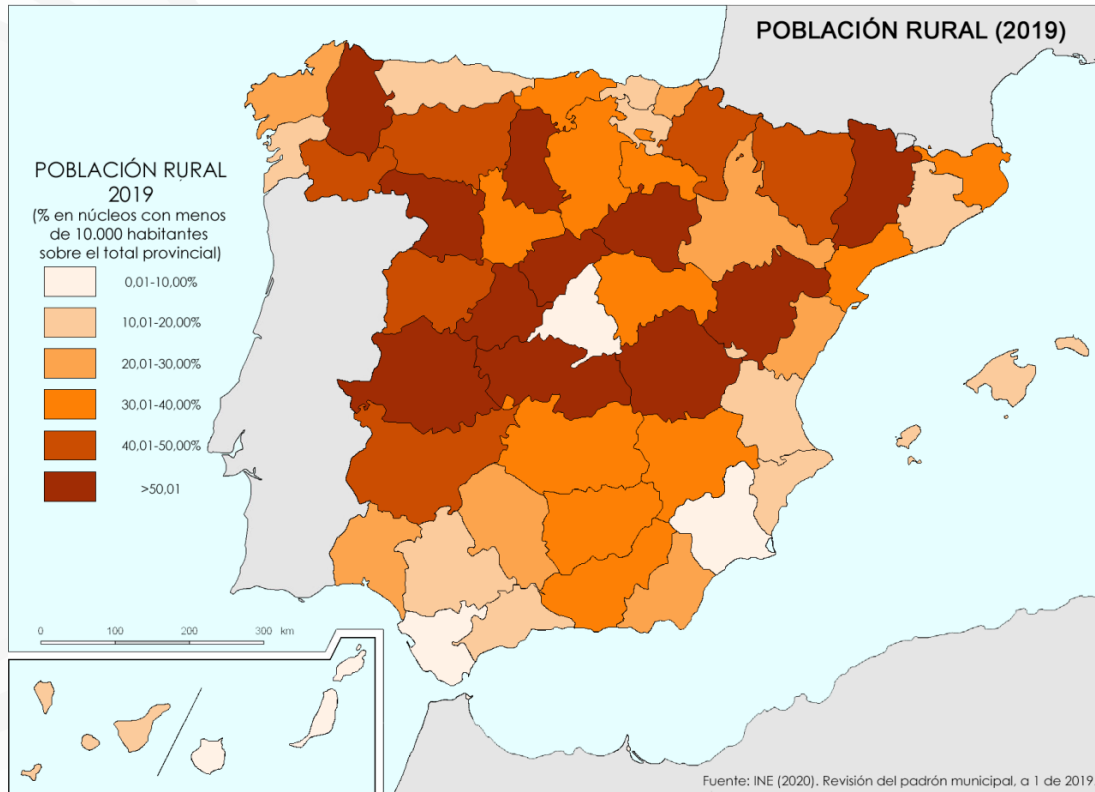


**PRUEBA DE ACCESO Y ADMISIÓN A LA
UNIVERSIDAD**

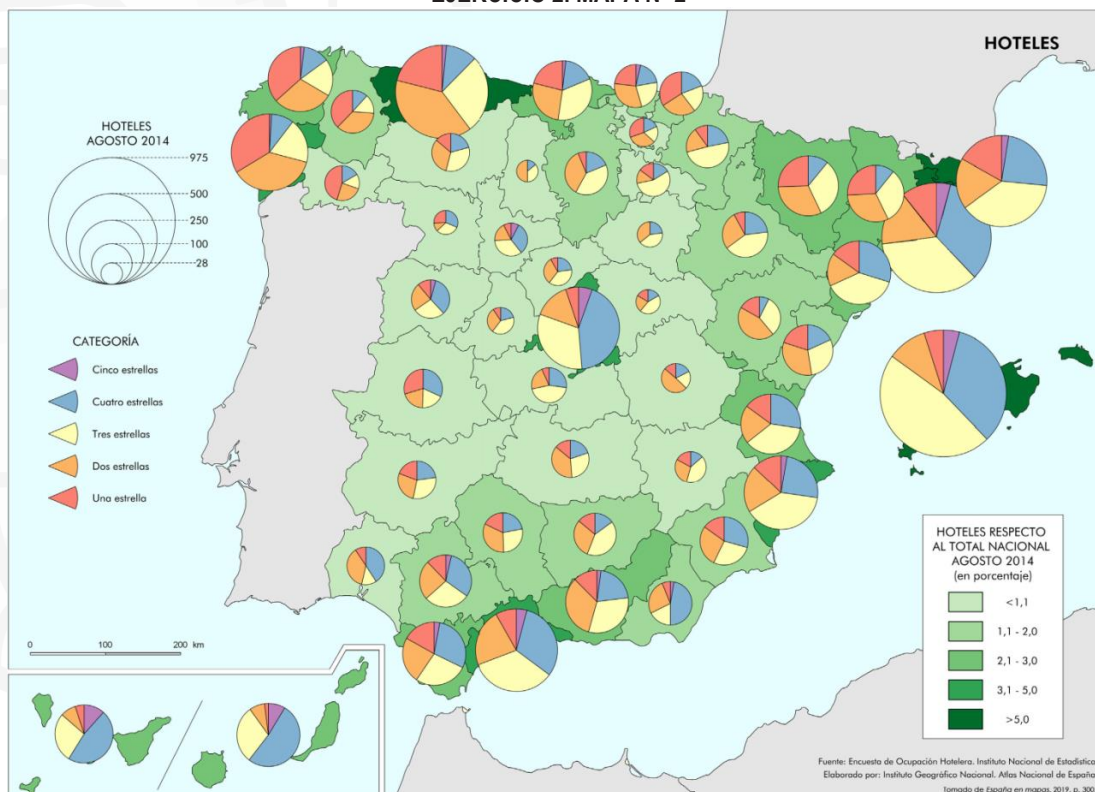
GEOGRAFÍA

ANDALUCÍA, CEUTA, MELILLA y CENTROS en MARRUECOS
CURSO 2019-2020

EJERCICIO 1. MAPA Nº 1



EJERCICIO 2. MAPA Nº 2





PRUEBA DE ACCESO Y ADMISIÓN A LA UNIVERSIDAD

GEOGRAFÍA

ANDALUCÍA, CEUTA, MELILLA y CENTROS en MARRUECOS

CURSO 2019-2020

- Instrucciones:**
- Duración: 1 hora y 30 minutos.
 - El examen consta de 4 bloques. Deberá contestar al número de preguntas que se indican en cada uno.
 - La valoración de cada respuesta se indica en el bloque correspondiente.

El examen constará de 4 Bloques (A, B, C y D)

En cada bloque se plantearán varias preguntas, una para cada uno de los bloques de contenidos de la asignatura, de las que deberá responder al número que se indica en cada uno. En caso de **responder a más cuestiones de las requeridas**, serán tenidas en cuenta **las respondidas en primer lugar hasta alcanzar dicho número**.

BLOQUE A (Glosario. Significados geográficos)

Puntuación máxima: 2 puntos

En este bloque se plantean 8 términos geográficos para su definición, de los que debe responder, a su elección, SOLAMENTE 4. Cada respuesta tendrá un valor máximo de 0.5 puntos.

- | | | | |
|---------------------------|---------------------|----------------------------|------------------------|
| a) Éxodo rural | b) Sector terciario | c) Centro urbano | d) Touroperadores |
| e) Plataforma continental | f) Solsticio | g) Coordenadas geográficas | h) Sistema de ciudades |

BLOQUE B (Glosario. Significados de expresiones)

Puntuación máxima: 1 puntos

En este bloque se plantean 4 expresiones para relacionarlas con determinados conceptos geográficos, de las que debe responder, a su elección, SOLAMENTE 2.

Cada respuesta tendrá un valor máximo de 0.5 puntos.

- Las líneas que unen puntos de igual altitud sobre el nivel del mar en un mapa topográfico, se denominan
- El bosque de árboles que pierden su hoja en invierno, típico de la zona del norte de España, se denomina
- El sistema montañoso de dirección predominantemente lineal con altitudes y extensión notables, asociado geológicamente a procesos de plegamiento, se denomina
- El número de defunciones de niños menores de un año por cada 1.000 nacidos vivos en un determinado año, se denomina

BLOQUE C (Ejercicios de desarrollo)

Puntuación máxima: 4 puntos

En este bloque se plantean 2 ejercicios de análisis y comentario de mapas, gráficos, cuadros estadísticos o textos, de los que debe responder, a su elección, SOLAMENTE 1.

Cada ejercicio tendrá un valor máximo de 4 puntos.

EJERCICIO 1. El Mapa nº 1 muestra la insolación en España. Analícelo y responda a las siguientes cuestiones:

- ¿Qué provincias peninsulares reciben en su totalidad o parte de su territorio una insolación anual inferior a 2.000 horas/año? (Hasta 1 punto).
- Comente los factores naturales que explican los diferentes niveles de insolación anual en España. (Hasta 1 punto).
- ¿De qué manera repercute la insolación anual en las actividades turísticas y su localización? (Hasta 2 puntos).

EJERCICIO 2. En el Mapa nº 2 aparecen los tipos de régimen fluvial de los ríos en España. Obsérvelo y conteste a las siguientes preguntas:

- Enumere cinco ríos de régimen pluvial mediterráneo o pluvial subtropical. (Hasta 1 punto).
- ¿Qué diferencia hay entre régimen pluvial y régimen nival? (Hasta 1 punto).
- ¿Cuál es la dirección dominante de los principales ríos de la península ibérica? Explique las causas. (Hasta 2 puntos).

Los mapas correspondientes están al final.



PRUEBA DE ACCESO Y ADMISIÓN A LA UNIVERSIDAD

ANDALUCÍA, CEUTA, MELILLA y CENTROS en MARRUECOS

CURSO 2019-2020

GEOGRAFÍA

BLOQUE D. (Desarrollo de temas)

Puntuación máxima: 3 puntos

En este bloque se plantean 2 temas, de los que debe desarrollar, a su elección, SOLAMENTE 1.

Cada cuestión tendrá un valor máximo de 3 puntos.

TEMA A. EL ESPACIO RURAL. Los condicionantes de la actividad agraria en España. La Política Agraria Comunitaria. Uso y aprovechamientos del espacio rural. Nuevas funciones del espacio rural: el paisaje.

TEMA B. LA ACTIVIDAD INDUSTRIAL. Factores de la actividad industrial. Principales sectores industriales en la actualidad. Distribución geográfica de la industria en España.



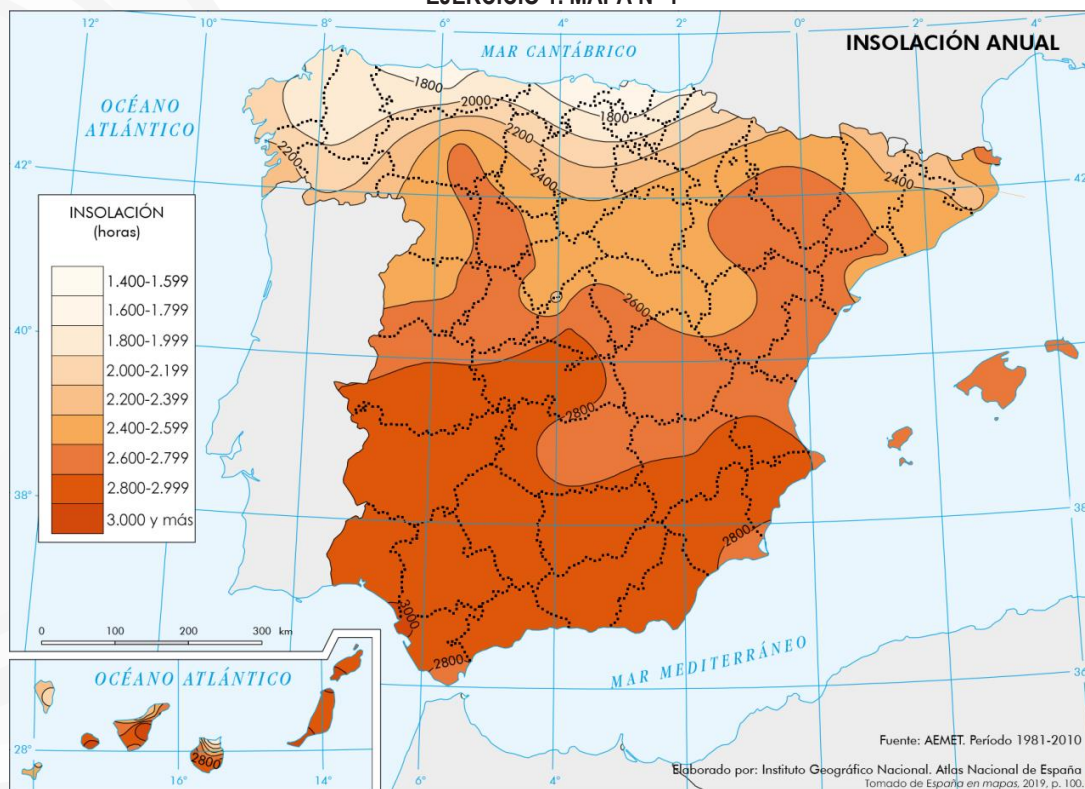
**PRUEBA DE ACCESO Y ADMISIÓN A LA
UNIVERSIDAD**

ANDALUCÍA, CEUTA, MELILLA y CENTROS en MARRUECOS

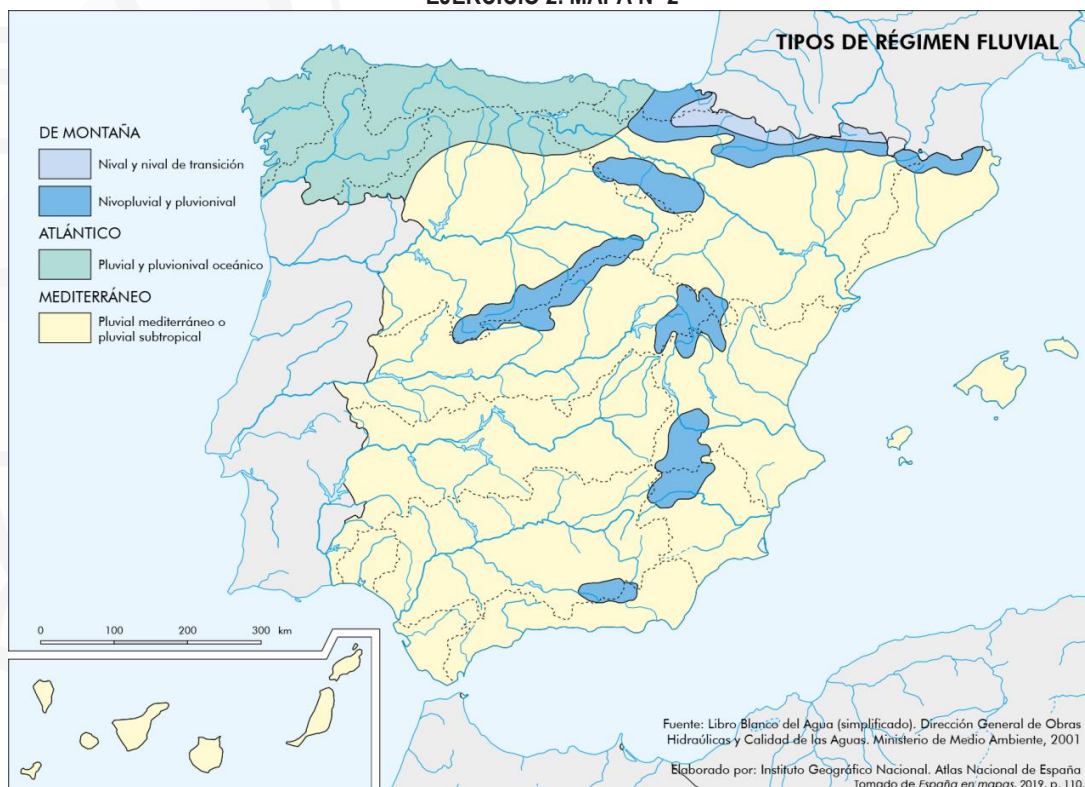
CURSO 2019-2020

GEOGRAFÍA

EJERCICIO 1. MAPA Nº 1



EJERCICIO 2. MAPA Nº 2





PRUEBA DE ACCESO Y ADMISIÓN A LA UNIVERSIDAD

GEOGRAFÍA

ANDALUCÍA, CEUTA, MELILLA y CENTROS en MARRUECOS

CURSO 2019-2020

- Instrucciones:**
- a) Duración: 1 hora y 30 minutos.
 - b) El examen consta de 4 bloques. Deberá contestar al número de preguntas que se indican en cada uno.
 - c) La valoración de cada respuesta se indica en el bloque correspondiente.

El examen constará de 4 Bloques (A, B, C y D)

En cada bloque se plantearán varias preguntas, una para cada uno de los bloques de contenidos de la asignatura, de las que deberá responder al número que se indica en cada uno. En caso de **responder a más cuestiones de las requeridas**, serán tenidas en cuenta **las respondidas en primer lugar hasta alcanzar dicho número**.

BLOQUE A (Glosario. Significados geográficos)

Puntuación máxima: 2 puntos

En este bloque se plantean 8 términos geográficos para su definición, de los que debe responder, a su elección, SOLAMENTE 4. Cada respuesta tendrá un valor máximo de 0.5 puntos.

- | | | | |
|---------------------|--------------------------|--------------------|-----------------------|
| a) Dehesa | b) Cultivos industriales | c) Pesca de bajura | d) Morfología urbana |
| e) Turismo cultural | f) Desarrollo sostenible | g) Meridional | h) Cabecera de un río |

BLOQUE B (Glosario. Significados de expresiones)

Puntuación máxima: 1 puntos

En este bloque se plantean 4 expresiones para relacionarlas con determinados conceptos geográficos, de las que debe responder, a su elección, SOLAMENTE 2.

Cada respuesta tendrá un valor máximo de 0.5 puntos.

- a) La corriente o avenida impetuosa de aguas que se genera en tiempos de muchas lluvias o de rápidos deshielos, se denomina
- b) La superficie de separación de masas de aire polar y tropical que provoca inestabilidad atmosférica, se denomina
- c) La situación resultante de la falta de agua por la insuficiencia de las precipitaciones, se denomina
- d) El conjunto de medios que permite el desplazamiento de personas, mercancías e información entre diferentes lugares, se denomina

BLOQUE C (Ejercicios de desarrollo)

Puntuación máxima: 4 puntos

En este bloque se plantean 2 ejercicios de análisis y comentario de mapas, gráficos, cuadros estadísticos o textos, de los que debe responder, a su elección, SOLAMENTE 1.

Cada ejercicio tendrá un valor máximo de 4 puntos.

EJERCICIO 1. En el Mapa nº 1 se representa la densidad de población por provincias de España en 2015. Analícelo y responda a las siguientes cuestiones:

- a) ¿Qué provincias tienen una densidad inferior a 20,49 habitantes por km²? (Hasta 1 punto).
- b) Analice y comente las diferencias de densidad entre las provincias españolas en 2015 (Hasta 1 punto).
- c) Explique las causas de la distribución espacial de la población y justifique el caso de Madrid (Hasta 2 puntos).

EJERCICIO 2. El Mapa nº 2 representa los parques científicos y tecnológicos en España. Analícelo y conteste a las siguientes preguntas:

- a) ¿En qué provincias se encuentran los parques científicos y tecnológicos afiliados? (Hasta 1 punto).
- b) ¿Cuáles son las causas de la concentración de los parques científicos y tecnológicos en Cataluña, País Vasco y Comunidad Valenciana? (Hasta 1 punto).
- c) Explique las relaciones entre el desarrollo de los parques científicos y tecnológicos en España y la distribución industrial. (Hasta 2 puntos).

Los mapas correspondientes están al final.



PRUEBA DE ACCESO Y ADMISIÓN A LA UNIVERSIDAD

ANDALUCÍA, CEUTA, MELILLA y CENTROS en MARRUECOS

CURSO 2019-2020

GEOGRAFÍA

BLOQUE D. (Desarrollo de temas)

Puntuación máxima: 3 puntos

En este bloque se plantean 2 temas, de los que debe desarrollar, a su elección, SOLAMENTE 1.

Cada cuestión tendrá un valor máximo de 3 puntos.

TEMA A. EL RELIEVE. Características generales. La Meseta y sus unidades interiores. Los rebordes montañosos de la Meseta. Los sistemas y unidades exteriores. Los relieves insulares.

TEMA B. LAS REGIONES BIOGEOGRÁFICAS. Factores de diversidad y regiones biogeográficas. Formaciones vegetales de la España peninsular e insular. La intervención humana y sus consecuencias geográficas.



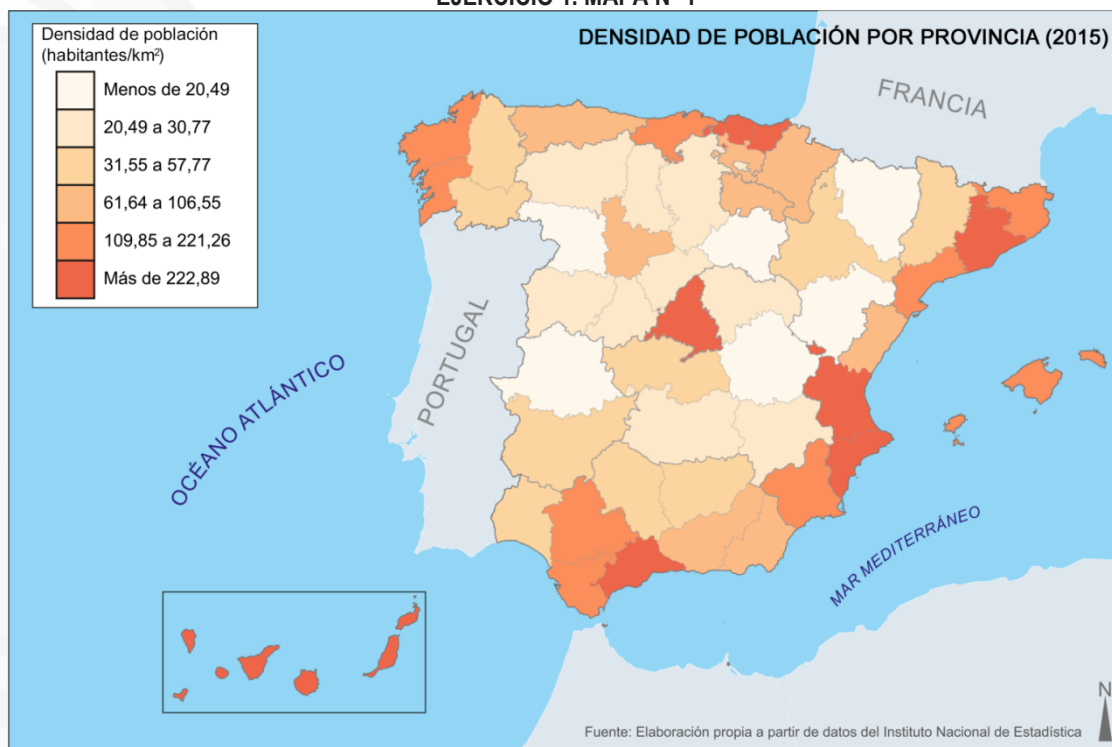
**PRUEBA DE ACCESO Y ADMISIÓN A LA
UNIVERSIDAD**

GEOGRAFÍA

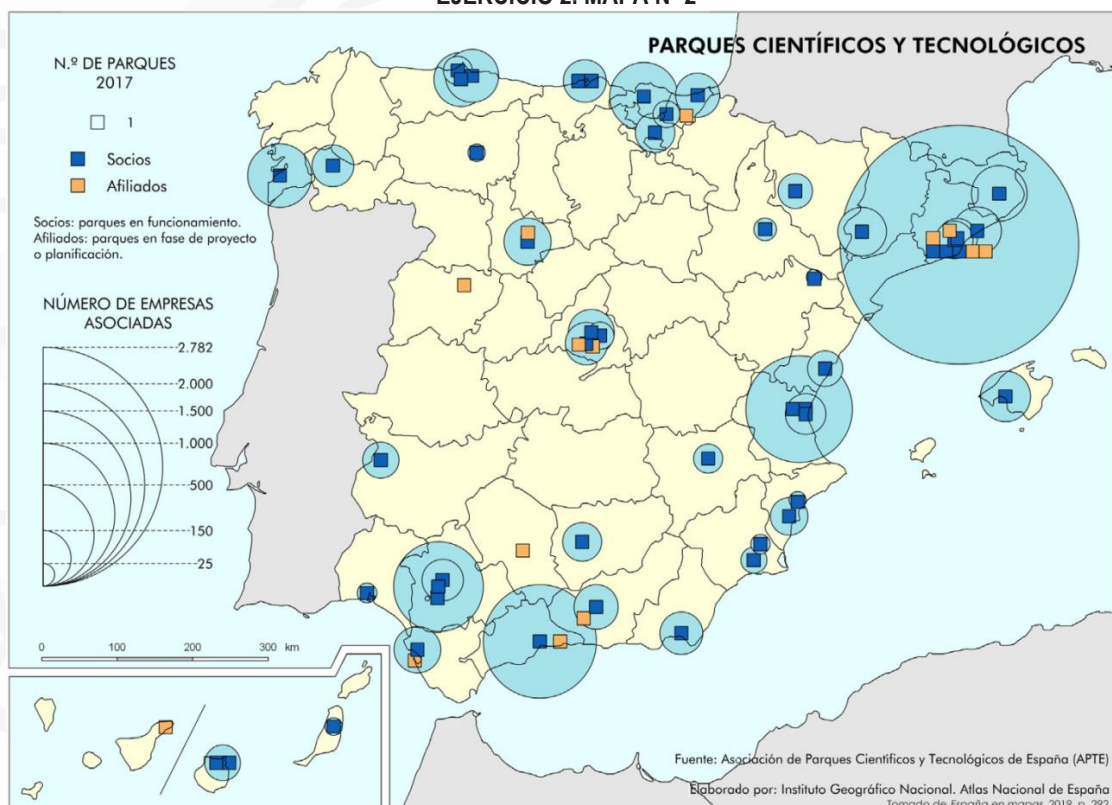
ANDALUCÍA, CEUTA, MELILLA y CENTROS en MARRUECOS

CURSO 2019-2020

EJERCICIO 1. MAPA Nº 1



EJERCICIO 2. MAPA Nº 2





PRUEBA DE ACCESO Y ADMISIÓN A LA UNIVERSIDAD

GEOGRAFÍA

ANDALUCÍA, CEUTA, MELILLA y CENTROS en MARRUECOS

CURSO 2019-2020

- Instrucciones:**
- Duración: 1 hora y 30 minutos.
 - El examen consta de 4 bloques. Deberá contestar al número de preguntas que se indican en cada uno.
 - La valoración de cada respuesta se indica en el bloque correspondiente.

El examen constará de 4 Bloques (A, B, C y D)

En cada bloque se plantearán varias preguntas, una para cada uno de los bloques de contenidos de la asignatura, de las que deberá responder al número que se indica en cada uno. En caso de **responder a más cuestiones de las requeridas**, serán tenidas en cuenta **las respondidas en primer lugar hasta alcanzar dicho número**.

BLOQUE A (Glosario. Significados geográficos)

Puntuación máxima: 2 puntos

En este bloque se plantean 8 términos geográficos para su definición, de los que debe responder, a su elección, SOLAMENTE 4. Cada respuesta tendrá un valor máximo de 0.5 puntos.

- | | | | |
|--------------------------|--------------------------|------------------|-----------------|
| a) Rehabilitación urbana | b) Régimen pluviométrico | c) Aparcería | d) Litoral |
| e) Importaciones | f) Globalización | g) Turismo rural | h) Lago glaciar |

BLOQUE B (Glosario. Significados de expresiones)

Puntuación máxima: 1 puntos

En este bloque se plantean 4 expresiones para relacionarlas con determinados conceptos geográficos, de las que debe responder, a su elección, SOLAMENTE 2.

Cada respuesta tendrá un valor máximo de 0.5 puntos.

- Los mapas que representan las características estructurales de la distribución espacial de un fenómeno geográfico particular, se denominan
- La actividad industrial dedicada a obtener derivados químicos del petróleo y de los gases asociados, se denomina
- El área urbana planificada creada para acoger a la población creciente de las ciudades a partir del siglo XIX, se denomina
- La explotación agraria de gran tamaño, normalmente de producción extensiva orientada al mercado y con un único propietario, se denomina

BLOQUE C (Ejercicios de desarrollo)

Puntuación máxima: 4 puntos

En este bloque se plantean 2 ejercicios de análisis y comentario de mapas, gráficos, cuadros estadísticos o textos, de los que debe responder, a su elección, SOLAMENTE 1.

Cada ejercicio tendrá un valor máximo de 4 puntos.

EJERCICIO 1. El Mapa nº 1 representa las principales cuencas hidrográficas de la Península Ibérica, Baleares y Canarias. Analízelo y responde a las preguntas siguientes:

- ¿Qué Comunidades Autónomas se encuentran total o parcialmente dentro de la cuenca hidrográfica 3? (Hasta 1 punto).
- Expresa el nombre de los principales ríos que alimentan cada una de las cuencas indicadas con los números del 1 al 6 (Hasta 1 punto).
- Explique las razones de los contrastes de los valores del balance hídrico positivo de las cuencas de la vertiente atlántica peninsular con relación a la vertiente mediterránea (enumeradas del 7 al 11) donde es negativo. (Hasta 2 puntos).

EJERCICIO 2. El Mapa nº 2 representa las regiones biogeográficas y subprovincias de España. Obsérvelo y conteste las siguientes cuestiones:

- ¿Qué provincias de carácter administrativo forman parte de la Subprovincia Oroibérica (Ibb)? (Hasta 1 punto).
- ¿Qué características climáticas hacen de las islas Canarias una región biogeográfica especial? (Hasta 1 punto).
- Explique la relación existente entre las condiciones físicas del territorio y las diferentes regiones biogeográficas (Hasta 2 puntos).

Los mapas correspondientes están al final.



PRUEBA DE ACCESO Y ADMISIÓN A LA UNIVERSIDAD

GEOGRAFÍA

ANDALUCÍA, CEUTA, MELILLA y CENTROS en MARRUECOS

CURSO 2019-2020

BLOQUE D. (Desarrollo de temas)

Puntuación máxima: 3 puntos

En este bloque se plantean 2 temas, de los que debe desarrollar, a su elección, SOLAMENTE 1.

Cada cuestión tendrá un valor máximo de 3 puntos.

TEMA A. LA POBLACIÓN ESPAÑOLA. Evolución y distribución. La dinámica natural. Los movimientos migratorios. Estructura y composición de la población.

TEMA B. LA ACTIVIDAD PESQUERA. Significado de la pesca en España. Regiones pesqueras en España y principales caladeros. La importancia creciente de la acuicultura.

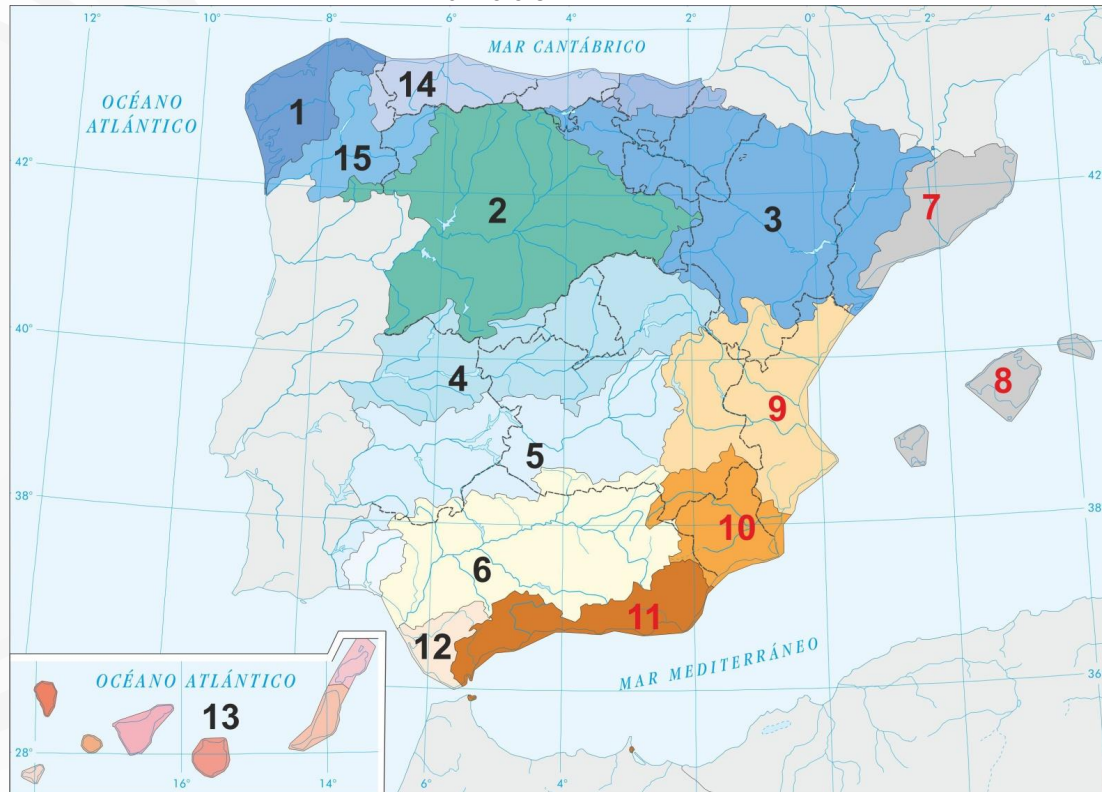


**PRUEBA DE ACCESO Y ADMISIÓN A LA
UNIVERSIDAD**

GEOGRAFÍA

ANDALUCÍA, CEUTA, MELILLA y CENTROS en MARRUECOS
CURSO 2019-2020

EJERCICIO 1. MAPA Nº 1



EJERCICIO 2. MAPA Nº 2





PRUEBA DE ACCESO Y ADMISIÓN A LA UNIVERSIDAD

GEOGRAFÍA

ANDALUCÍA, CEUTA, MELILLA y CENTROS en MARRUECOS

CURSO 2019-2020

- Instrucciones:**
- a) Duración: 1 hora y 30 minutos.
 - b) El examen consta de 4 bloques. Deberá contestar al número de preguntas que se indican en cada uno.
 - c) La valoración de cada respuesta se indica en el bloque correspondiente.

El examen constará de 4 Bloques (A, B, C y D)

En cada bloque se plantearán varias preguntas, una para cada uno de los bloques de contenidos de la asignatura, de las que deberá responder al número que se indica en cada uno. En caso de **responder a más cuestiones de las requeridas**, serán tenidas en cuenta **las respondidas en primer lugar hasta alcanzar dicho número**.

BLOQUE A (Glosario. Significados geográficos)

Puntuación máxima: 2 puntos

En este bloque se plantean 8 términos geográficos para su definición, de los que debe responder, a su elección, SOLAMENTE 4. Cada respuesta tendrá un valor máximo de 0.5 puntos.

- | | | | |
|---------------------|---------------------|---------------------------|-----------------------------------|
| a) Población activa | b) Artes de pesca | c) Ciudad dormitorio | d) Cuenca sedimentaria |
| e) Turismo de masas | f) Cambio climático | g) Energía hidroeléctrica | h) Envejecimiento de la población |

BLOQUE B (Glosario. Significados de expresiones)

Puntuación máxima: 1 puntos

En este bloque se plantean 4 expresiones para relacionarlas con determinados conceptos geográficos, de las que debe responder, a su elección, SOLAMENTE 2.

Cada respuesta tendrá un valor máximo de 0.5 puntos.

- a) La superficie llana o ligeramente inclinada, cortada por valles y situada a una cierta altitud con respecto al nivel del mar, se denomina
- b) El comportamiento de las precipitaciones a lo largo del año, haciendo un promedio de las mismas (lluvias, nieve, granizo convertidos a mm de lluvia) obtenidas a lo largo de un número considerable de años, se denomina
- c) El estado físico de la atmósfera en un momento preciso y en un lugar determinado, se denomina
- d) El proceso de recuperación integral de barrios con el objetivo de mejorar sus condiciones de habitabilidad (alojamiento de la población, espacios públicos...), se denomina

BLOQUE C (Ejercicios de desarrollo)

Puntuación máxima: 4 puntos

En este bloque se plantean 2 ejercicios de análisis y comentario de mapas, gráficos, cuadros estadísticos o textos, de los que debe responder, a su elección, SOLAMENTE 1.

Cada ejercicio tendrá un valor máximo de 4 puntos.

EJERCICIO 1. El Mapa nº 1 representa el volumen de pasajeros y su procedencia o destino en los aeropuertos españoles en 2015.

Analícelo y conteste a las siguientes cuestiones:

- a) ¿Indique los nombres de las provincias en las que se da mayor tráfico aéreo de pasajeros (enumeradas de 1 a 7)? (Hasta 1 punto).
- b) ¿A qué se deben las diferencias por volumen de pasajeros y distribución por procedencia/destino en los aeropuertos de Málaga y Madrid? (Hasta 1 punto).
- c) Explique la distribución de los aeropuertos españoles, indicando las causas de localización y la distribución de pasajeros internacionales (Unión Europea y resto del mundo) en ellos (Hasta 2 puntos).

EJERCICIO 2. El Mapa nº 2 representa la superficie regada por provincias en España (en porcentaje sobre el total de tierras de cultivo). Analícelo y conteste a las siguientes cuestiones:

- a) ¿Cuáles son las provincias que presentan más del 40,0% de sus tierras de cultivo en regadío? (Hasta 1 punto).
- b) ¿Qué tipo de cultivos son los que motivan la superficie regada en las provincias 1 y 2? (Hasta 1 punto).
- c) ¿Qué condiciones naturales motivan el predominio de la superficie cultivada de regadío en el sureste peninsular? (Hasta 2 puntos).

Los mapas correspondientes están al final.



PRUEBA DE ACCESO Y ADMISIÓN A LA UNIVERSIDAD

ANDALUCÍA, CEUTA, MELILLA y CENTROS en MARRUECOS

CURSO 2019-2020

GEOGRAFÍA

BLOQUE D. (Desarrollo de temas)

Puntuación máxima: 3 puntos

En este bloque se plantean 2 temas, de los que debe desarrollar, a su elección, SOLAMENTE 1.

Cada cuestión tendrá un valor máximo de 3 puntos.

TEMA A. LAS AGUAS Y LA RED HIDROGRÁFICA. Las vertientes hidrográficas españolas. Los ríos y las cuencas hidrográficas. Los regímenes fluviales. Uso y aprovechamiento de las aguas.

TEMA B. LAS REGIONES BIOGEOGRÁFICAS. Factores de diversidad y regiones biogeográficas. Formaciones vegetales de la España peninsular e insular. La intervención humana y sus consecuencias geográficas.



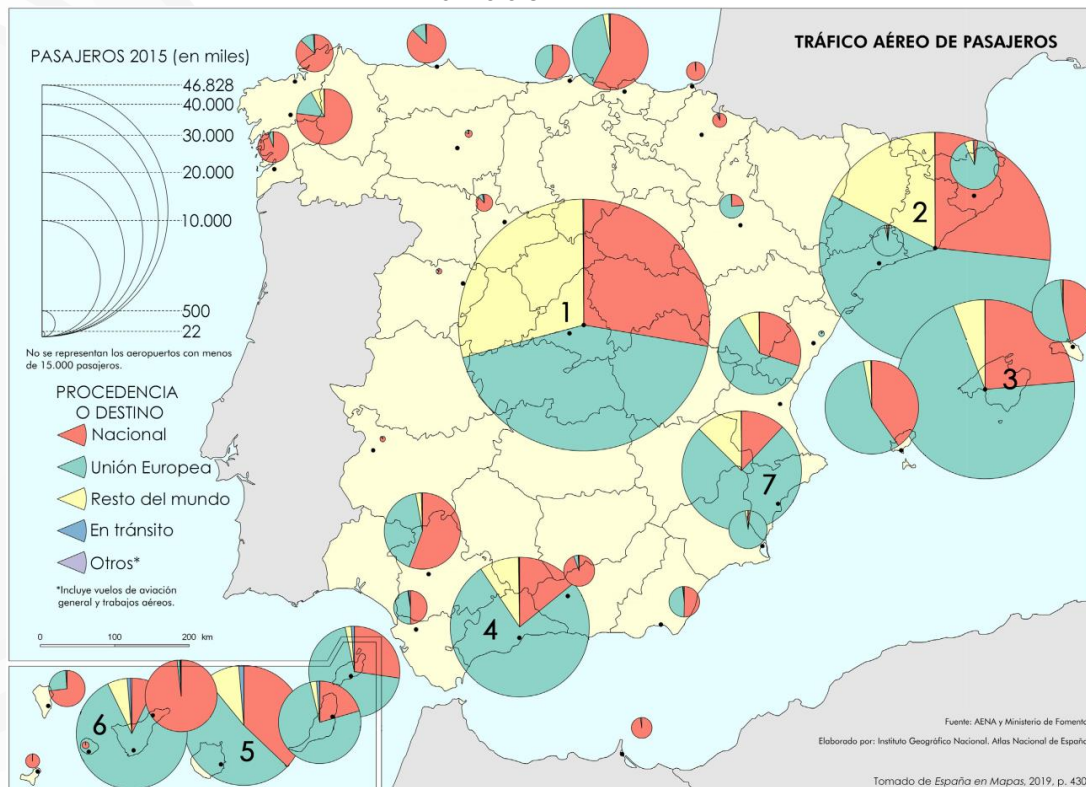
**PRUEBA DE ACCESO Y ADMISIÓN A LA
UNIVERSIDAD**

GEOGRAFÍA

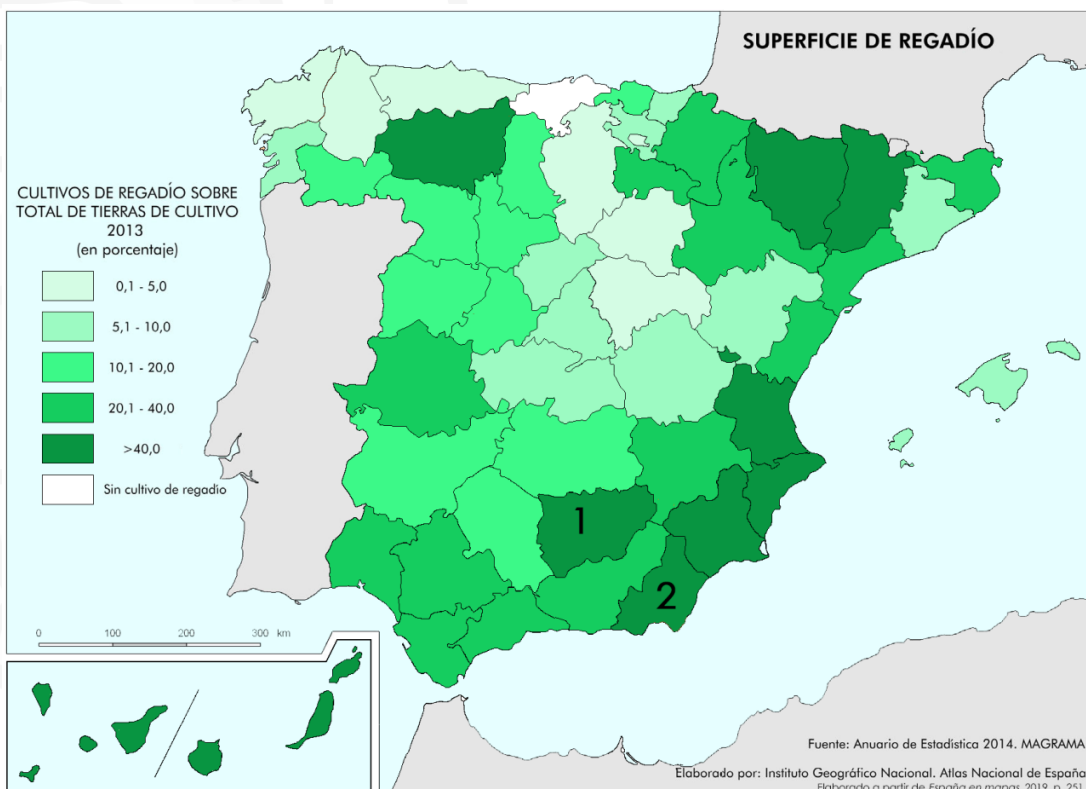
ANDALUCÍA, CEUTA, MELILLA y CENTROS en MARRUECOS

CURSO 2019-2020

EJERCICIO 1. MAPA Nº 1



EJERCICIO 2. MAPA Nº 2





PRUEBA DE ACCESO Y ADMISIÓN A LA UNIVERSIDAD

GEOGRAFÍA

ANDALUCÍA, CEUTA, MELILLA y CENTROS en MARRUECOS

CURSO 2019-2020

- Instrucciones:**
- Duración: 1 hora y 30 minutos.
 - El examen consta de 4 bloques. Deberá contestar al número de preguntas que se indican en cada uno.
 - La valoración de cada respuesta se indica en el bloque correspondiente.

El examen constará de 4 Bloques (A, B, C y D)

En cada bloque se plantearán varias preguntas, una para cada uno de los bloques de contenidos de la asignatura, de las que deberá responder al número que se indica en cada uno. En caso de **responder a más cuestiones de las requeridas**, serán tenidas en cuenta **las respondidas en primer lugar hasta alcanzar dicho número**.

BLOQUE A (Glosario. Significados geográficos)

Puntuación máxima: 2 puntos

En este bloque se plantean 8 términos geográficos para su definición, de los que debe responder, a su elección, SOLAMENTE 4. Cada respuesta tendrá un valor máximo de 0.5 puntos.

- | | | | |
|--------------------|--------------------|------------------------|----------------------|
| a) Estiaje | b) Barbecho | c) Bosque perennifolio | d) Saldo migratorio |
| e) Pesca de altura | f) Deslocalización | g) Endemismo | h) Escala de un mapa |

BLOQUE B (Glosario. Significados de expresiones)

Puntuación máxima: 1 puntos

En este bloque se plantean 4 expresiones para relacionarlas con determinados conceptos geográficos, de las que debe responder, a su elección, SOLAMENTE 2.

Cada respuesta tendrá un valor máximo de 0.5 puntos.

- El porcentaje que representa la población desempleada sobre el total de la población activa, se denomina
- La industria que se encarga de la transformación de las materias primas minerales para la fabricación de productos semielaborados, se denomina
- Las transacciones de bienes y servicios de un país hacia el exterior, se denominan
- La porción de territorio que presenta unas características morfológicas y funcionales semejantes, como resultado de la acción y la interacción de factores naturales y humanos, se denomina

BLOQUE C (Ejercicios de desarrollo)

Puntuación máxima: 4 puntos

En este bloque se plantean 2 ejercicios de análisis y comentario de mapas, gráficos, cuadros estadísticos o textos, de los que debe responder, a su elección, SOLAMENTE 1.

Cada ejercicio tendrá un valor máximo de 4 puntos.

EJERCICIO 1. El Mapa nº 1 representa la distribución de las precipitaciones en España. Analícelo y responda a las siguientes preguntas:

- Indique las provincias que incluyen zonas con precipitaciones entre 0 y 300 mm/anuales. (Hasta 1 punto).
- Comente la relación existente entre las precipitaciones y el relieve en España. (Hasta 1 punto).
- Compare las precipitaciones del Noroeste peninsular con las del Sureste peninsular, estableciendo las diferencias existentes y sus causas. (Hasta 2 puntos).

EJERCICIO 2. El Mapa nº 2 presenta la altitud sobre el nivel del mar en España. A partir del mismo responda a las siguientes cuestiones:

- Diga el nombre de las unidades de relieve señaladas numéricamente del 1 al 5. (Hasta 1 punto).
- Identifique y describa las características de los relieves señalados con las letras A y B. (Hasta 1 punto).
- Desarrolle las principales características de las unidades exteriores a la meseta. (Hasta 2 puntos).

Los mapas correspondientes están al final.



**PRUEBA DE ACCESO Y ADMISIÓN A LA
UNIVERSIDAD**

ANDALUCÍA, CEUTA, MELILLA y CENTROS en MARRUECOS

CURSO 2019-2020

GEOGRAFÍA

BLOQUE D. (Desarrollo de temas)

Puntuación máxima: 3 puntos

En este bloque se plantean 2 temas, de los que debe desarrollar, a su elección, SOLAMENTE 1.

Cada cuestión tendrá un valor máximo de 3 puntos.

TEMA A. EL ESPACIO URBANO. El Sistema de ciudades en España. Principales áreas y ejes urbanos. La estructura y el plano de la ciudad.

TEMA B. LAS ACTIVIDADES TURÍSTICAS. Caracteres de la oferta turística española y tipos de turismo. Principales áreas turísticas en España. Significado y consecuencias de las actividades turísticas.

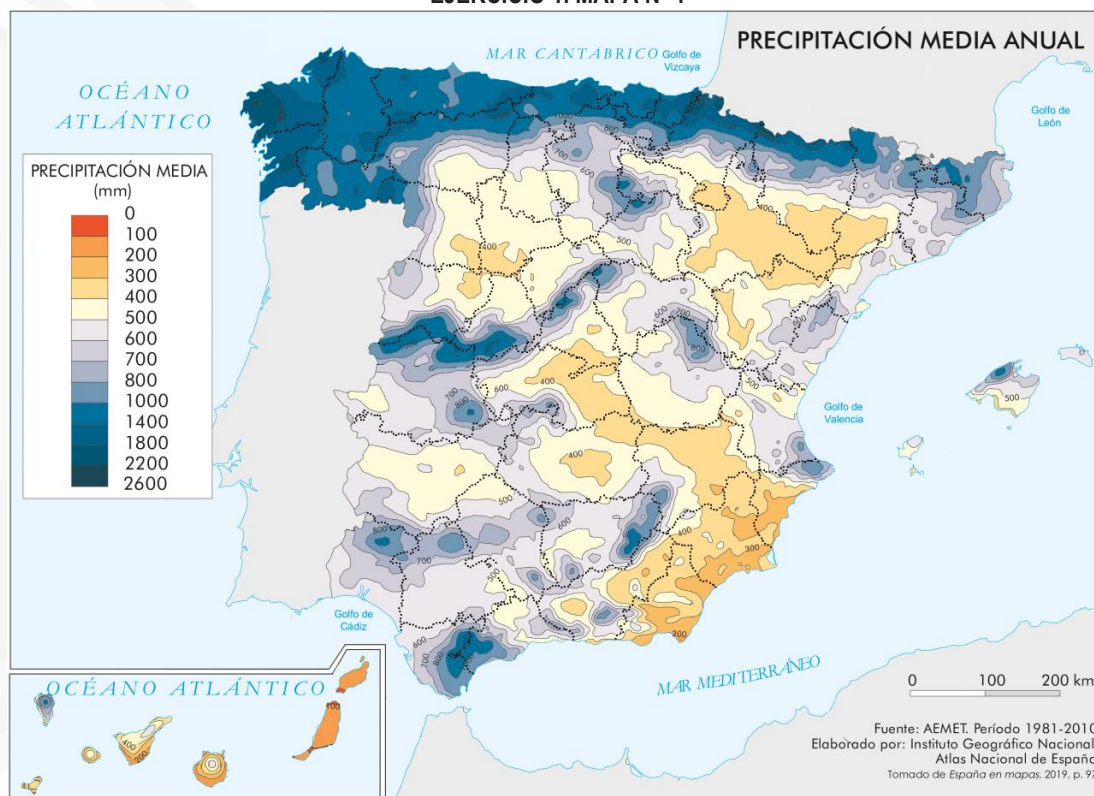


**PRUEBA DE ACCESO Y ADMISIÓN A LA
UNIVERSIDAD**

GEOGRAFÍA

ANDALUCÍA, CEUTA, MELILLA y CENTROS en MARRUECOS
CURSO 2019-2020

EJERCICIO 1. MAPA Nº 1



EJERCICIO 2. MAPA Nº 2

